

## Вариант 10

Работа содержит 30 заданий: 17 с выбором варианта ответа из четырёх предложенных, 10 с кратким ответом и 3 задания (15, 20, 23) с развёрнутым.

1 Какое из перечисленных морей больше по площади акватории?

- 1) Белое
- 2) Красное
- 3) Охотское
- 4) Аравийское

1 1 2 3 4

2 На границе с каким из перечисленных государств расположена крайняя западная точка России?

- 1) Швеция
- 2) Польша
- 3) Эстония
- 4) Литва

2 1 2 3 4

3 В каком из перечисленных городов России лето наиболее теплое?

- 1) Салехард
- 2) Санкт-Петербург
- 3) Мурманск
- 4) Владивосток

3 1 2 3 4

4 Вода — ценнейший природный дар, используется человеком для питья, полива, охлаждения, в химических производствах. Однако запасы природных вод крайне неравномерно распределены по территории России. Какой из перечисленных регионов России наиболее обеспечен водными ресурсами?

- 1) Республика Калмыкия
- 2) Ростовская область
- 3) Красноярский край
- 4) Ставропольский край

4 1 2 3 4

5 Какой из перечисленных регионов России лидирует в выработке электроэнергии на душу населения?

- 1) Дальний Восток
- 2) Центральная Россия
- 3) Северо-Запад России
- 4) Восточная Сибирь

5 1 2 3 4

6 Группа зарубежных туристов своими глазами хочет увидеть ареал естественного произрастания карликовой березы в России. Какой заповедник или национальный парк им необходимо для этого посетить?

6 1 2 3 4

- 1) «Лосиный Остров»
- 2) «Кивач»
- 3) «Черные Земли»
- 4) «Брянский лес»

7 1 2 3 4

7 Какой из перечисленных городов имеет наибольшую численность населения?

- 1) Смоленск
- 2) Сыктывкар
- 3) Уфа
- 4) Липецк

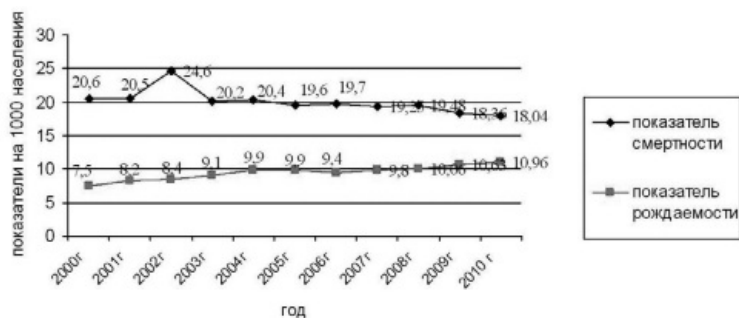
Задания 8–9 выполняются с использованием графика.

8 1 2 3 4

8 В каком из перечисленных годов показатель смертности был наибольшим?

- 1) 2001 г.
- 2) 2002 г.
- 3) 2003 г.
- 4) 2004 г.

Показатели смертности и рождаемости в Александровском районе Владимирской области

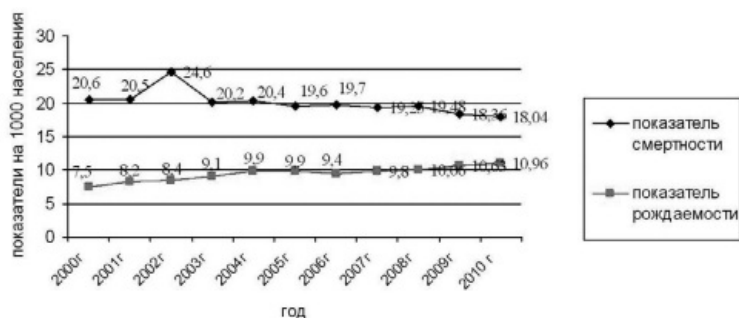


9 Определите показатель естественного прироста населения в 2004 г. Ответ запишите в виде числа.

9

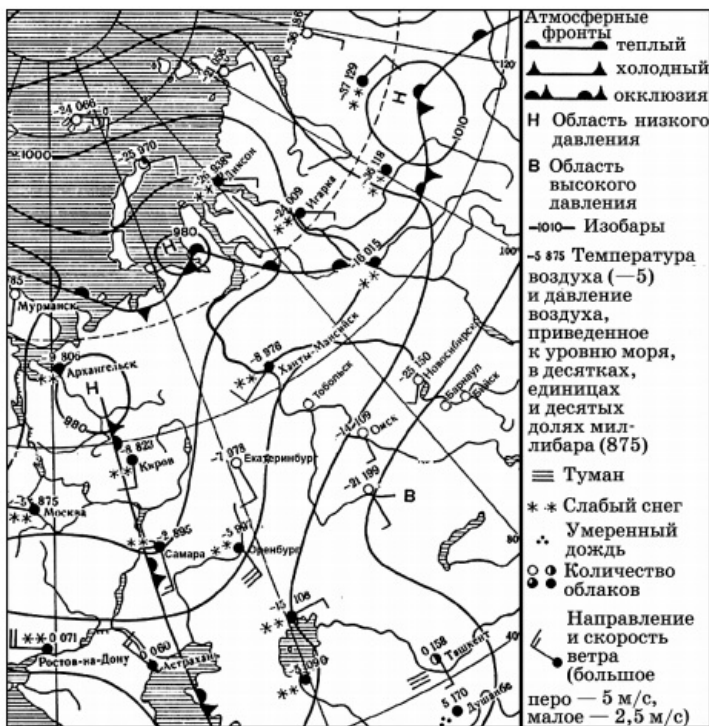
Ответ: \_\_\_\_\_ на тыс. человек.

Показатели смертности и рождаемости в Александровском районе Владимирской области



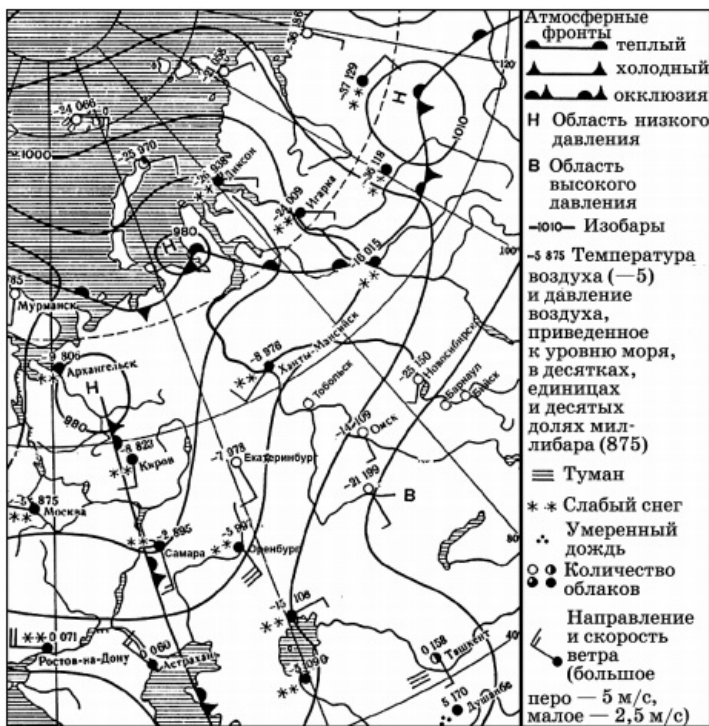
10 Какой из показанных на карте городов находится в зоне действия антициклона?

- 1) Барнаул
- 2) Киров
- 3) Самара
- 4) Диксон



11 Карта дана на 8 марта. В каком из показанных на карте городов на следующий день можно ожидать изменения погоды и выпадения атмосферных осадков?

- 1) Самара
- 2) Барнаул
- 3) Новосибирск
- 4) Бийск



12 Примером рационального природопользования является

12 1 2 3 4

- 1) разработка открытых месторождений угля
- 2) перевод ТЭС с газа на уголь
- 3) вторичная переработка сырья
- 4) молевой сплав леса по крупным рекам

13 Выберите три высказывания, в которых говорится о процессе урбанизации.

13 1 2 3 4

- 1) По данным Переписи населения России 2002 года 106429 тысяч россиян были жителями городских поселений (73,3%).
- 2) Предгорья Северного Кавказа – один из наиболее густонаселенных районов России с густой сетью крупных сельских поселений.
- 3) Объемы трудовой миграции из России за период 1851–1915 годов оцениваются в 4,5 млн человек.
- 4) За два года, 1863–1864, в Турцию из Кубанской области ушли 400 тысяч адыгов, абазин и ногайцев.

14 Определите, какой город имеет географические координаты 43° с.ш. и 5° в.д.?

14

Ответ: \_\_\_\_\_

15 Пустыня Намиб начинается еще на территории Анголы, тянется через всю Намибию и дотягивается на юге до Калахари, сливаясь с ней. Протяженность пустыни — примерно 1900 километров. Слово «Намиб» в переводе с языка местных народов значит: «место, где ничего нет». Да и откуда там чему взяться, если осадков выпадает меньше 10 мм в год.

Объясните, с чем связано почти полное отсутствие атмосферных осадков в пустыне Намиб? Обоснованный ответ запишите на отдельном листе, указав сначала номер задания.

16 Используя данные таблицы «Продукция сельского хозяйства России в 2008 г.»,

16

определите долю продукции животноводства (в %) в общем объеме продукции сельского хозяйства. Полученный результат округлите до целого числа.

*Продукция сельского хозяйства России в 2008 г. (миллиардов рублей)*

Продукция сельского хозяйства	2461,4
в том числе:	
растениеводство	1306,4
животноводство	1155,0

Ответ: \_\_\_\_\_ %

- 17 Расположите перечисленные ниже города в порядке увеличения в них численности населения. Запишите в таблицу получившуюся последовательность цифр.

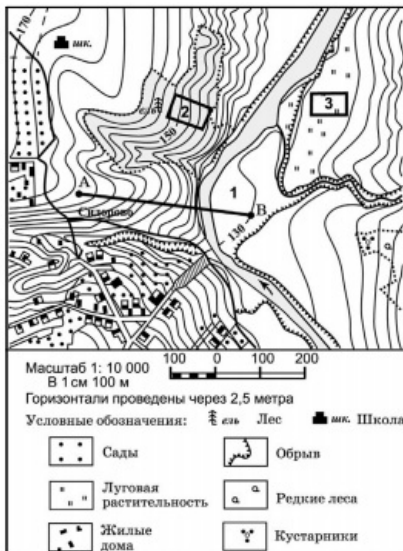
- 1) Екатеринбург
- 2) Тольятти
- 3) Мурманск

Запишите получившуюся последовательность цифр.

Задания 18–21 выполняются с использованием приведённого ниже текста.

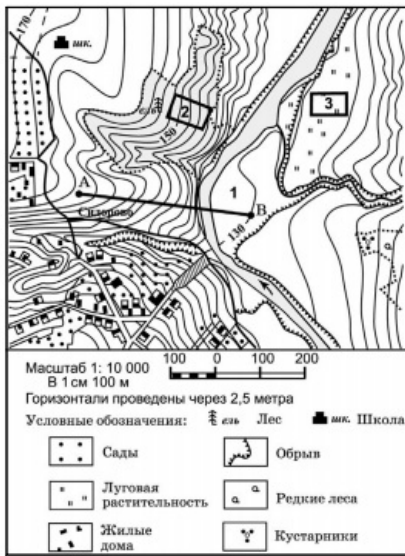
- 18 Определите по карте расстояние на местности по прямой от точки А до точки В. Ответ запишите цифрами.

Ответ: \_\_\_\_\_ м.

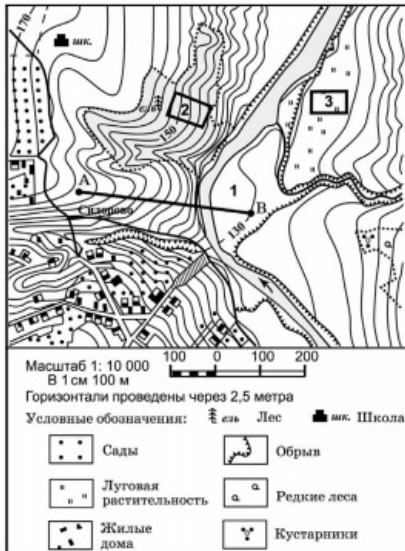


- 19 Определите по карте, в каком направлении от точки А находится участок 3.

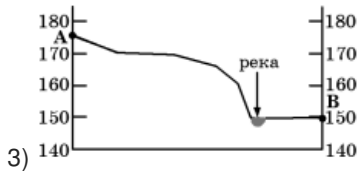
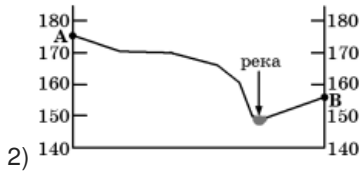
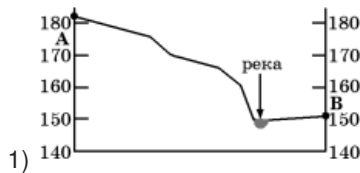
Ответ: \_\_\_\_\_

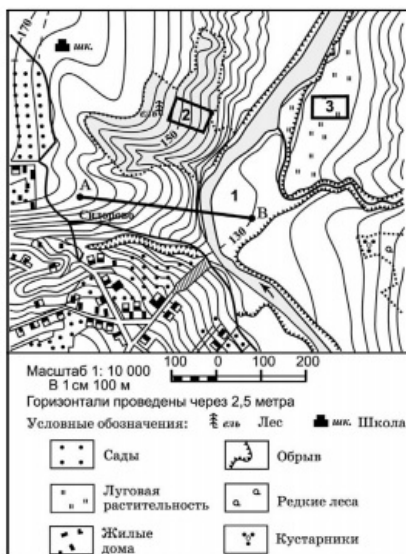
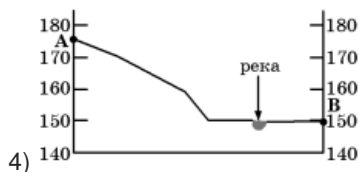


- 20 Мальчик 5 лет зимой хочет покататься на санках с горки. Он обращается к вам за советом. Оцените, какой из участков, обозначенных на карте цифрами 1, 2 и 3, наиболее подходит для этого. Для обоснования своего ответа приведите два довода. Обоснованный ответ запишите на отдельном листе, указав сначала номер задания.



- 21 На рисунках представлены варианты профиля рельефа местности, построенные на основе карты по линии А–В разными учащимися. Какой из профилей построен верно?





Задания 22, 23 выполняются с использованием приведённого ниже текста.

22 Картами какого региона нужно воспользоваться для того, чтобы изучить территорию, на которой будет реализован названный в тексте проект?

- 1) Европейского Севера
- 2) Европейского Юга
- 3) Урала
- 4) Центральной России

Таганрогский автомобильный завод, расположенный в Ростовской области, — это современное динамичное предприятие, ориентированное на выпуск автомобилей мирового уровня. Завод был образован в феврале 1997 г. Основной специализацией Таганрогского автомобильного завода является выпуск южнокорейских машин компании Hyundai. С мая 2001 г. на предприятии запущено лицензионное производство автомобиля Hyundai Accent. На сегодня модель Hyundai Accent (для российского рынка она производится только на ТагАЗе) является одной из самых продаваемых в России иномарок. С апреля 2004 года на заводе освоен выпуск седана бизнес-класса Hyundai Sonata. В 2005 г. стартовала сборка малотоннажного грузовика Hyundai Porter.

23 Какие факторы обусловили выбор для организации сборочного производства южнокорейских автомобилей в Ростовской области? Укажите два фактора. Обоснованный ответ запишите на отдельном листе, указав сначала номер задания.

Таганрогский автомобильный завод, расположенный в Ростовской области, — это современное динамичное предприятие, ориентированное на выпуск автомобилей мирового уровня. Завод был образован в феврале 1997 г. Основной специализацией Таганрогского автомобильного завода является выпуск южнокорейских машин компании Hyundai. С мая 2001 г. на предприятии запущено лицензионное производство автомобиля Hyundai Accent. На сегодня модель Hyundai Accent (для российского рынка она производится только на ТагАЗе) является одной из самых продаваемых в России иномарок. С апреля 2004 года на заводе освоен выпуск седана бизнес-класса Hyundai Sonata. В 2005 г. стартовала сборка малотоннажного грузовика Hyundai Porter.

24 Расположите регионы страны в той последовательности, в которой их жители встречают

22 1 2 3 4

24

Новый год.

- 1) Республика Карелия
- 2) Сахалинская область
- 3) Омская область

25

- 25 Туристические фирмы разных регионов России разработали слоганы (рекламные лозунги) для привлечения туристов в свои регионы. Установите соответствие между слоганом и регионом.

СЛОГАН

А) Побродите по старому городу и крепостным сооружениям Дербента — памятника всемирного наследия

Б) Поставьте у подножия вулкана Кроноцкая Сопка

РЕГИОН

- 1) Камчатский край
- 2) Республика Дагестан
- 3) Вологодская область
- 4) Читинская область

Запишите выбранные цифры под соответствующими буквами.

26

- 26 В школьном музее оказались образцы слоев горных пород океанической земной коры. Для создания одного из экспонатов музея потребовалось разместить эти образцы в определенной последовательности.

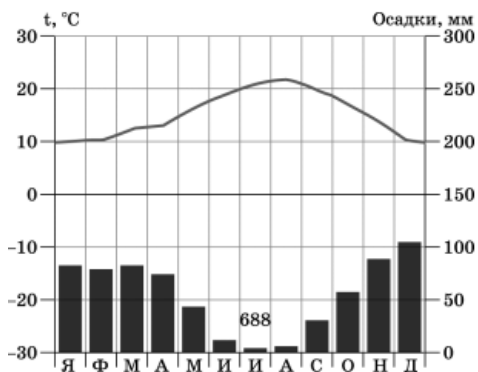
- 1) базальтовый слой
- 2) осадочный слой
- 3) гранитный слой

Запишите цифры в правильной последовательности.

27

1 2 3 4

- 27 Проанализируйте климатограмму и определите, какой буквой на карте обозначен пункт, характеристики климата которого отражены в климатограмме.







- 1) A
- 2) B
- 3) C
- 4) D

Задания 28, 29 выполняются с использованием приведённого ниже текста.

28 Какую из изученных на уроках географии закономерностей подтверждают собранные данные?

- 1) Температура воздуха изменяется в течение года.
- 2) Высота Солнца над горизонтом изменяется в зависимости от географической широты местности.
- 3) Континентальность климата увеличивается в направлении с северо-запада на юго-восток.
- 4) Температура воздуха падает с высотой.

Учащиеся нескольких школ, находящихся в разных городах России, стали участниками единого образовательного проекта. Результатами наблюдений, которые проводятся ими на географических площадках своих городов, они обмениваются. Результаты этих наблюдений приведены в таблице.

Пункт наблюдения	Долгота пункта наблюдения	Высота Солнца над горизонтом 21 марта в полдень по солнечному времени, °	Среднегодовая температура воздуха, °С	Среднегодовое количество атмосферных осадков, мм
Калининград	20° в.д.	36	7	803
Астрахань	48° в.д.	44	10	213
Санкт-Петербург	30° в.д.	30	5	633
Ярославль	40° в.д.	33	4	591

29 В каком из городов 23 сентября (день осеннего равноденствия) солнце раньше всего по московскому времени поднимается над горизонтом?

- 1) Калининград
- 2) Астрахань
- 3) Санкт-Петербург
- 4) Ярославль

Учащиеся нескольких школ, находящихся в разных городах России, стали участниками

28 1 2 3 4

29 1 2 3 4

единого образовательного проекта. Результатами наблюдений, которые проводятся ими на географических площадках своих городов, они обмениваются. Результаты этих наблюдений приведены в таблице.

Пункт наблюдения	Долгота пункта наблюдения	Высота Солнца над горизонтом 21 марта в полдень по солнечному времени, °	Среднегодовая температура воздуха, °С	Среднегодовое количество атмосферных осадков, мм
Калининград	20° в.д.	36	7	803
Астрахань	48° в.д.	44	10	213
Санкт-Петербург	30° в.д.	30	5	633
Ярославль	40° в.д.	33	4	591

30 Определите страну по ее краткому описанию.

По территории этой небольшой по площади и численности населения страны проходит транспортный путь (канал), связывающий два океана. Экономика страны базируется на эксплуатации этого канала, а также на банковском и страховом деле, регистрации судов под флагом страны и туризме. Столица имеет одноименное с государством название, которое с одного из индейских языков можно перевести как «место, где много рыбы».

Ответ: \_\_\_\_\_

30

## Ответы

1	4
2	2
3	4
4	3
5	4
6	2
7	3
8	2
9	-10,5
10	4
11	1
12	3
13	1
14	Марсель
16	47
17	321
18	380
19	юго-восток
21	1
22	2
24	231
25	21
26	132
27	2
28	3
29	2
30	Панама

Обо всех неточностях пишите на почту (с указанием номера варианта и задания):  
dasha@neznaika.pro

Источник: [http://neznaika.pro/test/geo\\_oge/663-variant-10.html](http://neznaika.pro/test/geo_oge/663-variant-10.html)