

Вариант 9

Работа содержит 30 заданий: 17 с выбором варианта ответа из четырёх предложенных, 10 с кратким ответом и 3 задания (15, 20, 23) с развёрнутым.

1 В каком из перечисленных морей средняя солёность вод выше?

- 1) Охотское
- 2) Аравийское
- 3) Черное
- 4) Балтийское

1 1 2 3 4

2 Сухопутную границу с Россией имеют:

- 1) Азербайджан, Армения
- 2) Монголия, Белоруссия
- 3) Швеция, Молдавия
- 4) Туркмения, Грузия

2 1 2 3 4

3 Для какой из перечисленных территорий характерно сплошное распространение вечной мерзлоты?

- 1) остров Сахалин
- 2) Кольский полуостров
- 3) полуостров Таймыр
- 4) Курильские острова

3 1 2 3 4

4 Одним из характерных явлений в районах с недостаточным увлажнением является засуха. Это — длительный и значительный недостаток дождя. Кроме того, засуха опасна для районов с высоким загрязнением водоемов и водоемкими типами производства. Для какого из перечисленных регионов России засуха наиболее характерное явление?

- 1) Калининградская область
- 2) Мурманская область
- 3) Смоленская область
- 4) Оренбургская область

4 1 2 3 4

5 В каком из перечисленных регионов России валовые сборы зерновых выше?

- 1) Ленинградская область
- 2) Ненецкий АО
- 3) Краснодарский край
- 4) Чукотский АО

5 1 2 3 4

6 Группа зарубежных туристов пожелала посетить биосферный заповедник в России. Какой заповедник им необходимо для этого посетить?

- 1) Воронинский

6 1 2 3 4

- 2) Астраханский
- 3) Костомукшский
- 4) Байкало-Ленский

7 1 2 3 4

7 Определите, к традиционным занятиям какого из перечисленных народов России относится оленеводство?

- 1) татары
- 2) чеченцы
- 3) калмыки
- 4) якуты

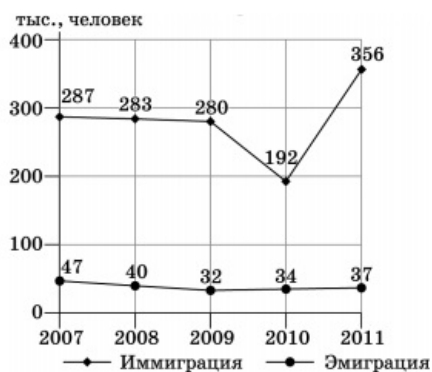
Задания 8–9 выполняются с использованием графика.

8 1 2 3 4

8 В каком из перечисленных годов из России выехало большее количество людей?

- 1) 2007 г.
- 2) 2008 г.
- 3) 2009 г.
- 4) 2010 г.

Международная миграция в России

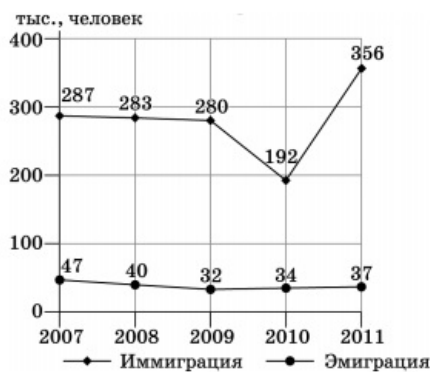


9

9 Определите миграционный прирост населения России в 2010 году. Ответ запишите в виде числа.

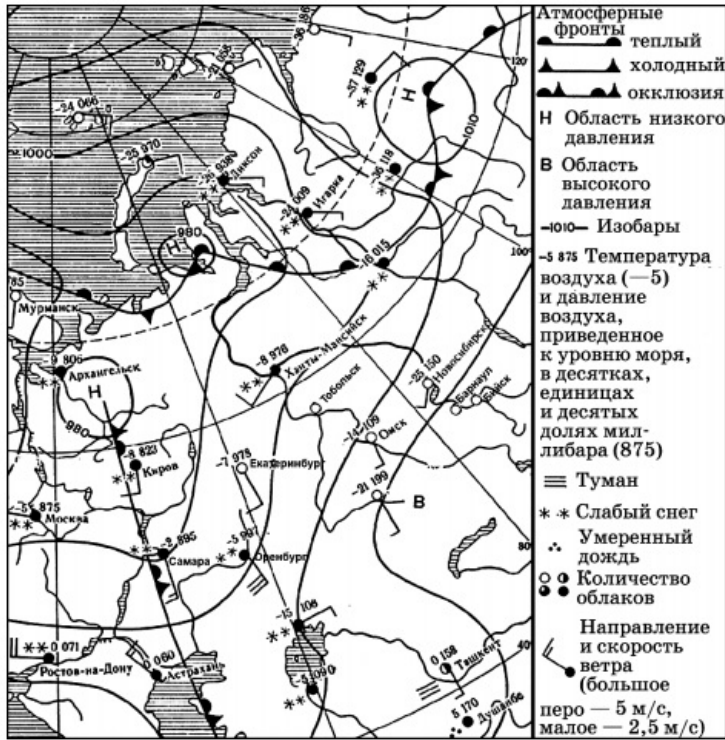
Ответ: _____ тыс. человек.

Международная миграция в России



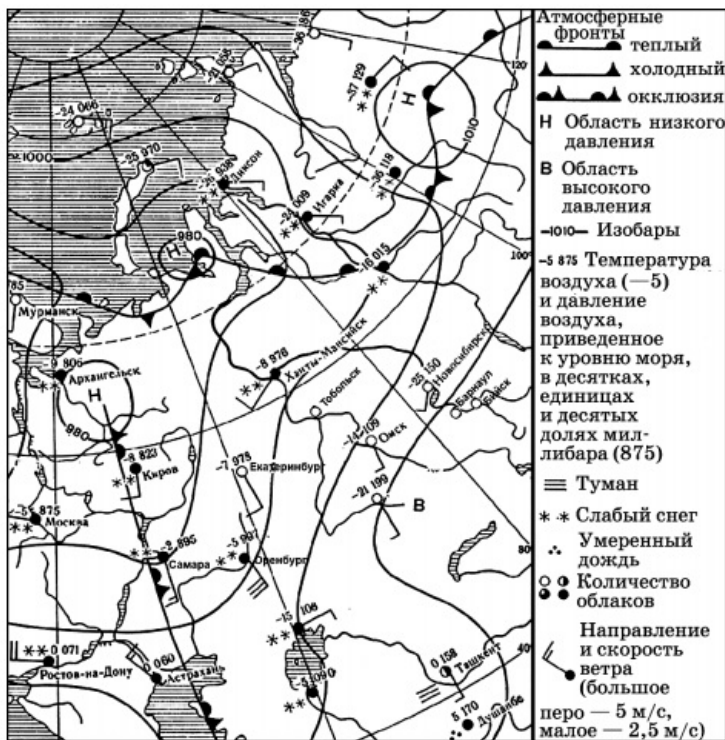
10 Какой из показанных на карте городов находится в зоне действия антициклона?

- 1) Самара
- 2) Архангельск
- 3) Киров
- 4) Барнаул



11 Карта дана на 7 марта. В каком из показанных на карте городов на следующий день можно ожидать изменения погоды и выпадения атмосферных осадков?

- 1) Киров
- 2) Омск
- 3) Бийск
- 4) Барнаул



12 Какой из перечисленных видов топлива, используемых на ТЭС, является наиболее «экологически чистым»?

12 1 2 3 4

- 1) природный газ
- 2) древесина
- 3) бурый уголь
- 4) мазут

13 Выберите три высказывания, в которых говорится об иммиграции.

13 1 2 3 4

- 1) После 1905 года был разрешен выезд из России на «заработки», после чего поток трудовых мигрантов увеличился.
- 2) В период 1948–1990 годов из СССР также выехало около полумиллиона граждан, в число которых входили и высылаемые из страны диссиденты.
- 3) После распада СССР значительное число русскоязычного населения Ближнего зарубежья переселилось в Россию.
- 4) После открытия «железного занавеса» в конце XX века Россию покинуло значительное число людей.

14 Определите, какой город имеет географические координаты 41° с.ш. и 28° в.д.?

14

Ответ: _____

15 Северо-Сибирская (Таймырская) низменность расположена в северной части Восточной Сибири. При ширине около 600 км простирается на полторы тысячи километров между приустьевыми отрезками рек Енисей и Оленек. Характеризуется полого-увалистым рельефом с высотами до 300 метров. Северо-Сибирская низменность сложена морскими и ледниковыми отложениями, песчаниками и глинистыми сланцами. На ее территории имеются месторождения нефти, природного газа, каменного угля. На территории низменности много озер, крупнейшие — Таймырское озеро, Лабаз. Однако значительные участки низменности заболочены.

Почему полуостров Таймыр при небольшом количестве атмосферных осадков характеризуется высокой заболоченностью? Одна из причин — характер рельефа.

Укажите еще две причины.

Обоснованный ответ запишите на отдельном листе, указав сначала номер задания.

- 16 Используя данные таблицы «Продукция сельского хозяйства России в 2009 г.», определите долю продукции животноводства (в %) в общем объеме продукции сельского хозяйства. Полученный результат округлите до целого числа.

16

Продукция сельского хозяйства России в 2009 г. (миллиардов рублей)

Продукция сельского хозяйства	2515,9
в том числе:	
растениеводство	1238,9
животноводство	1277,0

Ответ: _____

- 17 Расположите перечисленные ниже города в порядке увеличения в них численности населения. Запишите в таблицу получившуюся последовательность цифр.

17

- 1) Петропавловск-Камчатский
- 2) Ростов-на-Дону
- 3) Санкт-Петербург

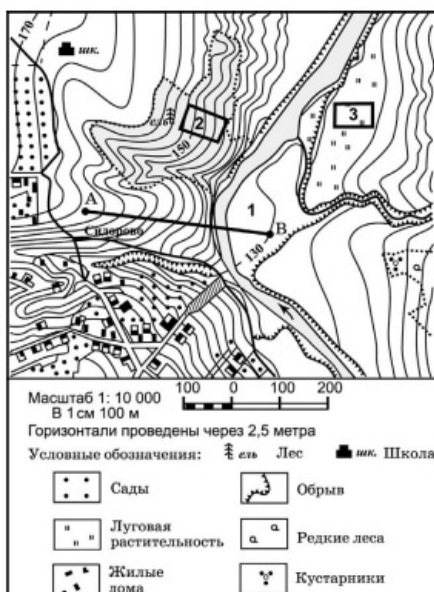
Запишите получившуюся последовательность цифр.

Задания 18–21 выполняются с использованием приведённого ниже текста.

- 18 Определите по карте расстояние на местности по прямой от точки А до школы. Ответ запишите цифрами.

18

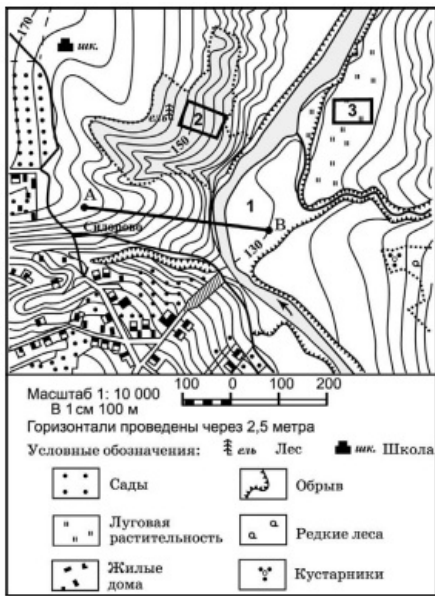
Ответ: _____



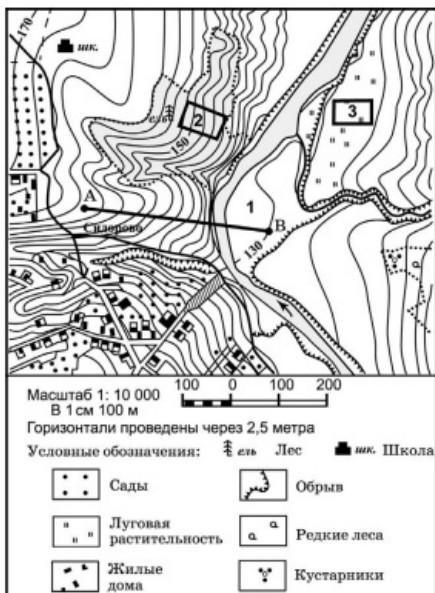
- 19 Определите по карте, в каком направлении от школы находится точка В.

19

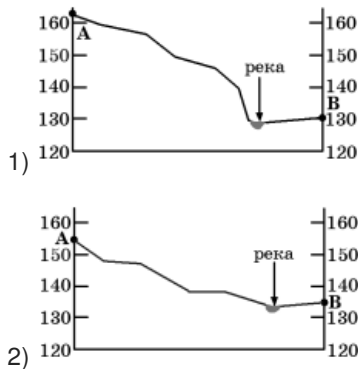
Ответ: _____

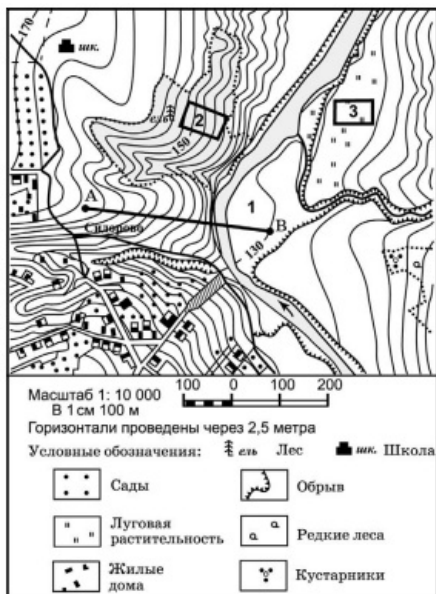
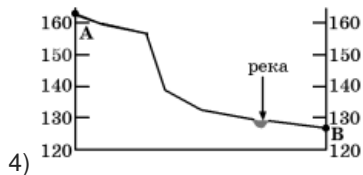
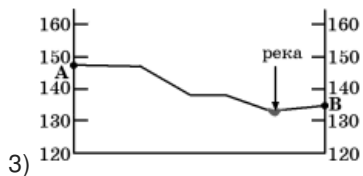


20 Администрация поселка Сидорово решила построить спортивный стадион. Оцените, какой из участков, обозначенных на карте цифрами 1, 2 и 3, наиболее подходит для устройства спортивного стадиона. Для обоснования своего ответа приведите два довода. Обоснованный ответ запишите на отдельном листе, указав сначала номер задания.



21 На рисунках представлены варианты профиля рельефа местности, построенные на основе карты по линии А–В разными учащимися. Какой из профилей построен верно?





Задания 22, 23 выполняются с использованием приведённого ниже текста.

22 1 2 3 4

22 Картами какого региона нужно воспользоваться для того, чтобы изучить территорию, на которой на территории России работает завод по производству Ford Focus?

- 1) Европейский Север
- 2) Северо-Запад России
- 3) Поволжье
- 4) Центральная Россия

В городе Всеволожске под Санкт-Петербургом действует завод Ford Motor Company. Компания, раскинувшая сеть из 110 своих заводов по всему миру, крепко взялась за новое предприятие. Персонал набирался по конкурсу: из десяти тысяч претендентов отбирали около четырехсот. Они да еще около тридцати иностранных специалистов и работают сегодня здесь. Общая площадь завода — 26 га, площадь производственных цехов — 36 тыс. км². Предприятие полного производственного цикла, включая сварку, окраску и окончательную сборку автомобилей. Объем инвестиций — 150 млн долларов США. Выпускаемый продукт — Ford Focus. Проектная мощность — 25 тыс. автомобилей в год.

23 Какие факторы способствовали размещению в Ленинградской области предприятия по сборке автомобилей марки Ford Focus? Укажите два фактора. Обоснованный ответ запишите на отдельном листе, указав сначала номер задания.

В городе Всеволожске под Санкт-Петербургом действует завод Ford Motor Company. Компания, раскинувшая сеть из 110 своих заводов по всему миру, крепко взялась за новое предприятие. Персонал набирался по конкурсу: из десяти тысяч претендентов отбирали около четырехсот. Они да еще около тридцати иностранных специалистов и

работают сегодня здесь. Общая площадь завода — 26 га, площадь производственных цехов — 36 тыс. км². Предприятие полного производственного цикла, включая сварку, окраску и окончательную сборку автомобилей. Объем инвестиций — 150 млн долларов США. Выпускаемый продукт — Ford Focus. Проектная мощность — 25 тыс. автомобилей в год.

24 Расположите регионы страны в той последовательности, в которой их жители встречают Новый год.

- 1) Самарская область
- 2) Новосибирская область
- 3) Республика Саха (Якутия)

24

25 Туристические фирмы разных регионов России разработали слоганы (рекламные лозунги) для привлечения туристов в свои регионы. Установите соответствие между слоганом и регионом.

СЛОГАН

- А) Постой на крайней южной точке России
- Б) Побывай на Куршской косе

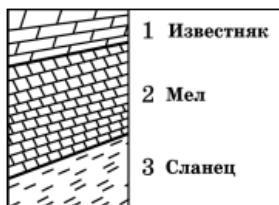
РЕГИОН

- 1) Республика Тыва (Тува)
- 2) Республика Дагестан
- 3) Приморский край
- 4) Калининградская область

Запишите выбранные цифры под соответствующими буквами.

25

26 Изучая расположение горных пород в геологическом разрезе, сделанном на равнинной территории, школьники сделали следующую зарисовку.



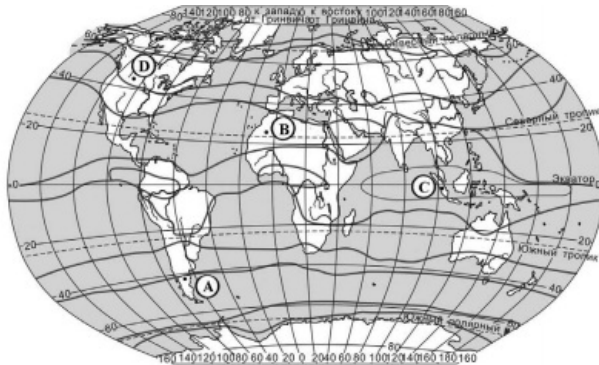
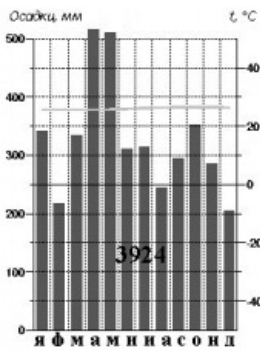
Расположите показанные на рисунке слои горных пород в порядке убывания их возраста (от самого старого до самого молодого).

Запишите цифры в правильной последовательности.

26

27 Проанализируйте климатограмму и определите, какой буквой на карте обозначен пункт, характеристики климата которого отражены в климатограмме.

27 1 2 3 4



- 1) A
- 2) B
- 3) C
- 4) D

Задания 28, 29 выполняются с использованием приведённого ниже текста.

28 Какую из изученных на уроках географии закономерностей подтверждают собранные данные?

- 1) Континентальность климата увеличивается в направлении с северо-запада на юго-восток.
- 2) Температура воздуха изменяется в течение суток.
- 3) Высота Солнца над горизонтом изменяется в зависимости от географической широты местности.
- 4) Относительная влажность воздуха падает, если температура воздуха повышается.

Учащиеся нескольких школ, находящихся в разных городах России, стали участниками единого образовательного проекта. Результатами наблюдений, которые проводятся ими на географических площадках своих городов, они обмениваются. 21 марта в полдень по солнечному времени каждого из городов (во всех городах действует московское время) они определили высоту Солнца над горизонтом, зафиксировали температуру и влажность воздуха. Результаты этих наблюдений приведены в таблице.

Пункт наблюдения	Координаты пункта наблюдения	Высота Солнца над горизонтом, °	Относительная влажность воздуха, %	Температура воздуха, °С
Рязань	54° с.ш. 39° в.д.	36	72	+3
Астрахань	46° с.ш. 48° в.д.	44	55	+4
Москва	56° с.ш. 37° в.д.	34	75	+1
Мурманск	69° с.ш. 33° в.д.	21	80	-5

29 В каком из городов 23 сентября (день осеннего равноденствия) солнце раньше всего по московскому времени поднимается над горизонтом?

28 1 2 3 4

29 1 2 3 4

- 1) Рязань
- 2) Астрахань
- 3) Москва
- 4) Мурманск

Учащиеся нескольких школ, находящихся в разных городах России, стали участниками единого образовательного проекта. Результатами наблюдений, которые проводятся ими на географических площадках своих городов, они обмениваются. 21 марта в полдень по солнечному времени каждого из городов (во всех городах действует московское время) они определили высоту Солнца над горизонтом, зафиксировали температуру и влажность воздуха. Результаты этих наблюдений приведены в таблице.

Пункт наблюдения	Координаты пункта наблюдения	Высота Солнца над горизонтом, °	Относительная влажность воздуха, %	Температура воздуха, °С
Рязань	54° с.ш. 39° в.д.	36	72	+3
Астрахань	46° с.ш. 48° в.д.	44	55	+4
Москва	56° с.ш. 37° в.д.	34	75	+1
Мурманск	69° с.ш. 33° в.д.	21	80	-5

30 Определите страну по ее краткому описанию.

30

Эта высокоразвитая страна — одна из крупнейших по территории стран мира. Она омывается водами нескольких океанов. Население, отличающееся низкой плотностью (одна из самых низких в мире), размещено в основном на востоке и юго-востоке страны. Страна занимает ведущее место в мире по запасам многих видов минеральных ресурсов: здесь залегают 1/3 мировых запасов бокситов, много железных руд и руд цветных металлов, угля, алмазов, золота; на шельфе океана найдены запасы нефти и газа. В структуре экспорта преобладают минеральное сырье и сельскохозяйственная продукция.

Ответ: _____

Ответы

1	2
2	2
3	3
4	4
5	3
6	2
7	4
8	1
9	158
10	4
11	1
12	1
13	3
14	Стамбул
16	51
17	123
18	320
19	юго-восток
21	1
22	2
24	321
25	24
26	321
27	3
28	3
29	2
30	Австралия

Обо всех неточностях пишите на почту (с указанием номера варианта и задания):
dasha@neznaika.pro

Источник: http://neznaika.pro/test/geo_oge/662-variant-9.html