

Вариант 7

Работа содержит 30 заданий: 17 с выбором варианта ответа из четырёх предложенных, 10 с кратким ответом и 3 задания (15, 20, 23) с развёрнутым.

1 Площадь какого из перечисленных полуостровов больше?

- 1) Калифорния
- 2) Аравийский
- 3) Лабрадор
- 4) Скандинавский

1 1 2 3 4

2 С каким из перечисленных государств Россия имеет сухопутную границу?

- 1) Армения
- 2) Иран
- 3) Китай
- 4) Киргизия

2 1 2 3 4

3 Для какой из перечисленных территорий России характерно самое прохладное лето?

- 1) Полуостров Крым
- 2) Черноморское побережье Кавказа
- 3) Остров Сахалин
- 4) Полуостров Таймыр

3 1 2 3 4

4 Половодья обычно сопровождаются выходом вод из меженного русла и затоплением поймы. От этого страдают люди, живущие вблизи русла рек. На какой из перечисленных рек половодья наблюдаются весной?

- 1) Анадырь
- 2) Амур
- 3) Дон
- 4) Вилюй

4 1 2 3 4

5 В каком из перечисленных регионов России ведутся наибольшие объемы лесозаготовок?

- 1) Северо-Запад России
- 2) Центральное Черноземье
- 3) Европейский Юг
- 4) Восточная Сибирь

5 1 2 3 4

6 Группа зарубежных туристов своими глазами хочет увидеть места обитания бурундука, кабарги и колонков в России. Какой национальный парк им необходимо для этого посетить?

- 1) Сохондинский

6 1 2 3 4

- 2) Ненецкий
- 3) Центрально-Черноземный
- 4) Астраханский

7 Какой из перечисленных городов имеет наибольшую численность населения?

- 1) Ярославль
- 2) Сыктывкар
- 3) Петрозаводск
- 4) Волгоград

7 1 2 3 4

Задания 8–9 выполняются с использованием графика.

8 В каком из перечисленных годов из России выехало большее количество людей?

- 1) 2002 г.
- 2) 2004 г.
- 3) 2006 г.
- 4) 2008 г.

8 1 2 3 4

Международная миграция в России (тыс. чел.)



9 Определите миграционный прирост населения России в 2002 году. Ответ запишите в виде числа.

Ответ: _____ тыс. человек.

Международная миграция в России (тыс. чел.)



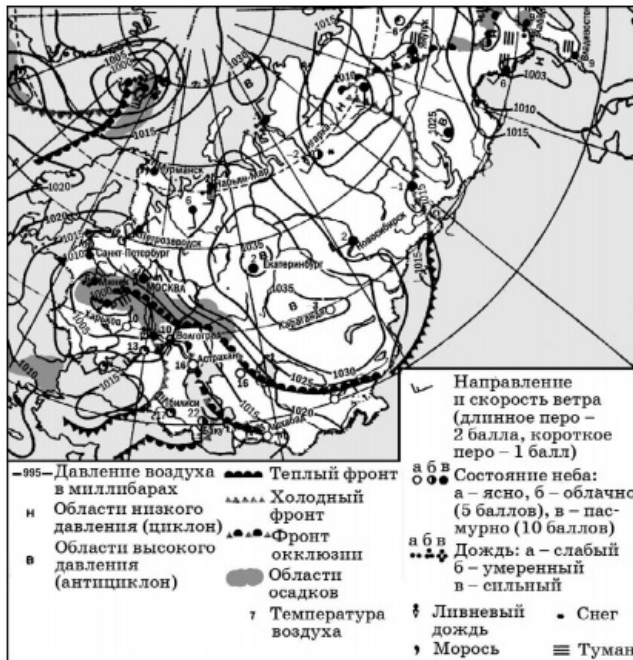
9

Задания 10–11 выполняются с использованием карты погоды.

10 Какой из показанных на карте городов находится в зоне действия антициклона?

10 1 2 3 4

- 1) Екатеринбург
- 2) Мурманск
- 3) Нарьян-Мар
- 4) Ашхабад



11 Карта дана на 5 марта. В каком из обозначенных на карте городов на следующий день можно ожидать ухудшения погоды и выпадения атмосферных осадков?

11 1 2 3 4

- 1) Екатеринбург
- 2) Якутск
- 3) Мурманск
- 4) Новосибирск



12 Охране природы способствует

12 1 2 3 4

- 1) широкое развитие транспорта на электрической тяге
- 2) создание каскадов ГЭС на реках
- 3) перевод ТЭС с природного газа на уголь
- 4) развитие экстенсивного земледелия в зоне влажных экваториальных лесов

13 В каком из следующих утверждений содержится информация об урбанизации?

13 1 2 3 4

- 1) По состоянию на 17 декабря 2012 года в России имеется 15 городов с численностью населения более 1 млн человек.
- 2) Общее число мигрантов из России за 1989–1994 годы превысило 600 тыс. человек.
- 3) В 1997 году общий уровень рождаемости в России составил 8,6‰.
- 4) В Сибири, площадь которой составляет почти 3/4 территории России, проживает менее 20% населения.

14 Определите, какой город имеет географические координаты 1° с.ш. и 104° в.д.?

14

Ответ: _____

15 На севере Западной Сибири между Тазовской и Обской губами располагается Гыданский полуостров. Его территория представляет собой плоскую заболоченную равнину высотой до 200 м. Растительность представлена мохово-лишайниковой и кустарниковой тундрой, на юге встречается лесотундра.

Почему территория Гыданского полуострова при небольшом количестве осадков характеризуется высокой заболоченностью? Одна из причин — плоский характер рельефа. Укажите еще две причины.

16 Используя данные таблицы «Продукция сельского хозяйства России в 2012 г.», определите долю продукции животноводства (в %) в общем объеме продукции сельского хозяйства. Полученный результат округлите до целого числа

16

Продукция сельского хозяйства России в 2012 г. (миллиардов рублей)

Продукция сельского хозяйства	3190,4
в том числе:	
растениеводство	1474,7
животноводство	1715,7

Ответ: _____ %

17 Расположите перечисленные ниже города в порядке увеличения в них численности населения. Запишите в таблицу получившуюся последовательность цифр.

17

- 1) Тольятти
- 2) Череповец
- 3) Омск

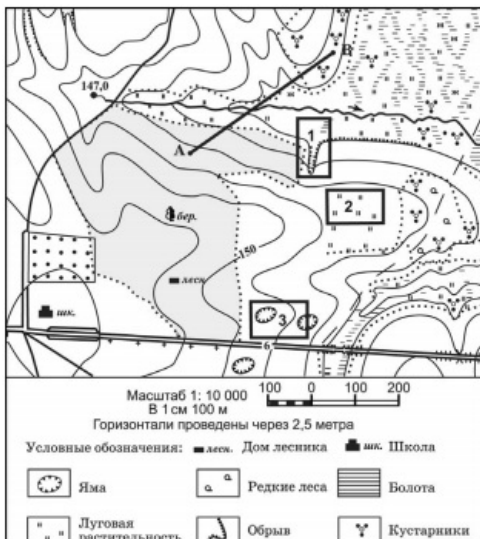
Запишите получившуюся последовательность цифр.

Задания 18–21 выполняются с использованием приведённого ниже текста.

- 18 Определите по карте расстояние на местности по прямой от дома лесника до школы.
Ответ запишите цифрами.

18

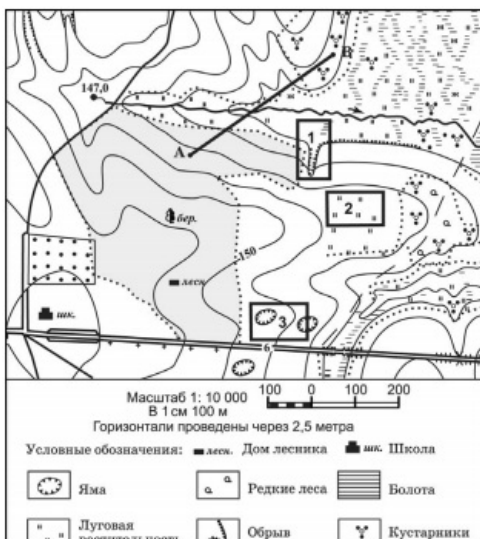
Ответ: ____



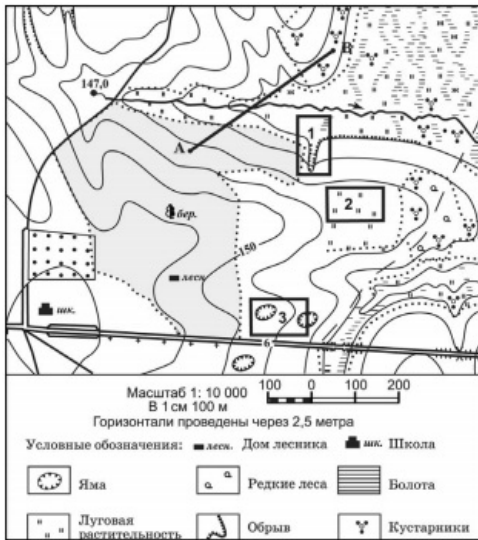
- 19 Определите по карте, в каком направлении от школы находится точка А.

19

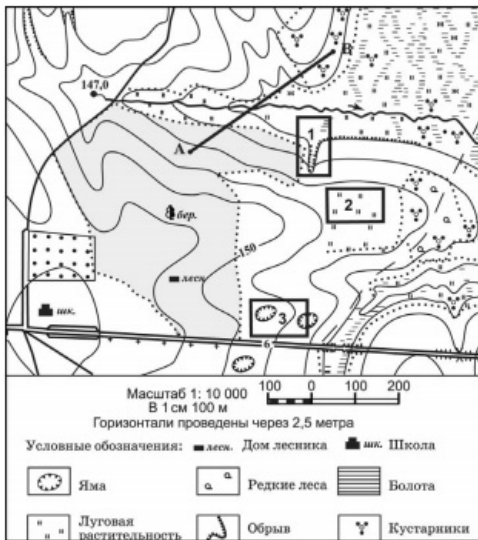
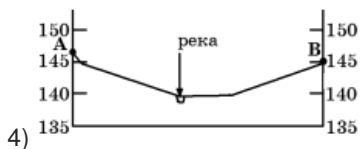
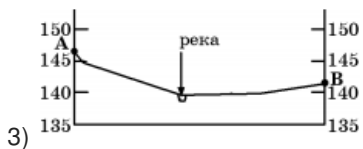
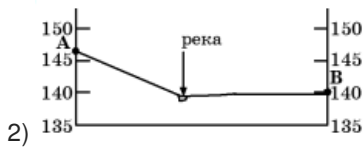

Ответ: ____



- 20 Администрация школы приняла решение построить школьное футбольное поле. Оцените, какой из участков, обозначенных на карте цифрами 1, 2 и 3, наиболее подходит для устройства школьного футбольного поля. Для обоснования своего ответа приведите два довода. Обоснованный ответ запишите на отдельном листе, указав сначала номер задания.



21 На рисунках представлены варианты профиля рельефа местности, построенные на основе карты по линии А–В разными учащимися. Какой из профилей построен верно?



Задания 22, 23 выполняются с использованием приведённого ниже текста.

22 Картами какого региона нужно воспользоваться для того, чтобы изучить территорию, на которой идет строительство нового завода?

- 1) Европейского Севера
- 2) Северо-Запада России
- 3) Поволжья
- 4) Урала

В Архангельской области идет строительство нового завода по производству целлюлозы. От проекта стоимостью 72 млн долларов группа «Илим» не отказалась даже из-за мирового финансового кризиса и планирует запустить производство уже в июле 2009 года. Мощность производства составит 900 тонн в сутки.

23 Какие факторы, кроме достаточного количества водных ресурсов, способствовали размещению в Архангельской области завода по производству целлюлозы? Укажите два фактора.

Обоснованный ответ запишите на отдельном листе, указав сначала номер задания.

В Архангельской области идет строительство нового завода по производству целлюлозы. От проекта стоимостью 72 млн долларов группа «Илим» не отказалась даже из-за мирового финансового кризиса и планирует запустить производство уже в июле 2009 года. Мощность производства составит 900 тонн в сутки.

24 Расположите регионы страны в той последовательности, в которой их жители встречают Новый год.

- 1) Республика Тыва (Тува)
- 2) Республика Калмыкия
- 3) Ямало-Ненецкий АО

24

25 Туристические фирмы разных регионов России разработали слоганы (рекламные лозунги) для привлечения туристов в свои регионы. Установите соответствие между слоганом и регионом.

СЛОГАН

- А) Посети место жизни и творчества Льва Толстого — Ясную Поляну
- Б) Побывай в Долине гейзеров

РЕГИОН

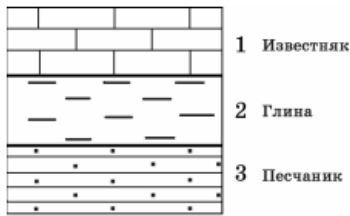
- 1) Республика Башкортостан
- 2) Ставропольский край
- 3) Тульская область
- 4) Камчатский край

Запишите выбранные цифры под соответствующими буквами.

25

26 Изучая расположение горных пород в геологическом разрезе, сделанном на равнинной территории, участники экспедиции сделали следующую зарисовку.

26

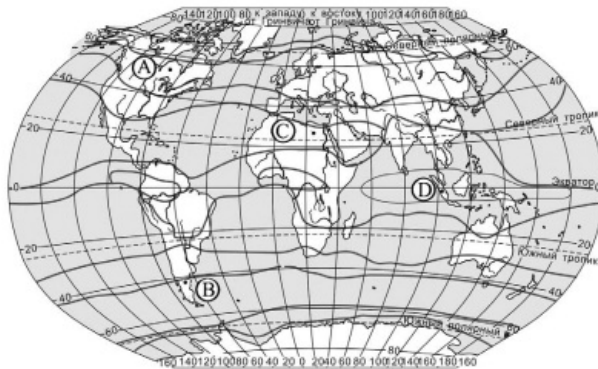
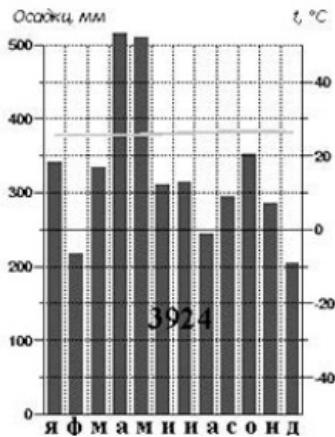


Расположите показанные на рисунке слои горных пород в порядке возрастания их возраста (от самого молодого до самого старого).

Запишите цифры в правильной последовательности.

27 1 2 3 4

27 Проанализируйте климатограмму и определите, какой буквой на карте обозначен пункт, характеристики климата которого отражены в климатограмме.



- 1) A
- 2) B
- 3) C
- 4) D

Задания 28, 29 выполняются с использованием приведённого ниже текста.

28 1 2 3 4

28 Какую из изученных на уроках географии закономерностей подтверждают собранные данные?

- 1) Континентальность климата увеличивается в направлении с северо-запада на юго-восток.
- 2) Температура воздуха изменяется в течение года.
- 3) Высота Солнца над горизонтом изменяется в зависимости от географической широты местности.

4) Температура воздуха падает с высотой.

Учащиеся нескольких школ, находящихся в разных городах России, стали участниками единого образовательного проекта. Результатами наблюдений, которые проводятся ими на географических площадках своих городов, они обмениваются. Результаты этих наблюдений приведены в таблице.

Пункт наблюдения	Долгота пункта наблюдения	Высота Солнца над горизонтом 21 марта в полдень по солнечному времени, °	Среднегодовая температура воздуха, °С	Среднегодовое количество атмосферных осадков, мм
Санкт-Петербург	30° в.д.	30	5	633
Астрахань	48° в.д.	44	10	213
Тамбов	41° в.д.	38	6	551
Ярославль	40° в.д.	33	4	591

29 В каком из городов 23 сентября (день осеннего равноденствия) солнце раньше всего по московскому времени поднимается над горизонтом?

29 1 2 3 4

- 1) Санкт-Петербург
- 2) Астрахань
- 3) Тамбов
- 4) Ярославль

Учащиеся нескольких школ, находящихся в разных городах России, стали участниками единого образовательного проекта. Результатами наблюдений, которые проводятся ими на географических площадках своих городов, они обмениваются. Результаты этих наблюдений приведены в таблице.

Пункт наблюдения	Долгота пункта наблюдения	Высота Солнца над горизонтом 21 марта в полдень по солнечному времени, °	Среднегодовая температура воздуха, °С	Среднегодовое количество атмосферных осадков, мм
Санкт-Петербург	30° в.д.	30	5	633
Астрахань	48° в.д.	44	10	213
Тамбов	41° в.д.	38	6	551
Ярославль	40° в.д.	33	4	591

30 Определите страну по ее краткому описанию.

30

Эта африканская страна омывается водами двух океанов. Столица — не самый крупный город в стране. Богата разнообразными полезными ископаемыми: алмазами, золотом, платиной, ураном, железными рудами. Сельское хозяйство достигло высокого уровня развития. Отраслями специализации являются горнодобывающая промышленность, черная металлургия, машиностроение, химическая промышленность.

Ответ: _____

Ответы

1	2
2	3
3	4
4	3
5	4
6	1
7	4
8	1
9	78
10	1
11	2
12	1
13	1
14	Сингапур
16	54
17	213
18	280
19	северо-восток
21	3
22	1
24	132
25	34
26	123
27	3
28	1
29	2
30	Юар

Обо всех неточностях пишите на почту (с указанием номера варианта и задания):
dasha@neznaika.pro

Источник: http://neznaika.pro/test/geo_oge/660-variant-7.html