

## Вариант 6

Работа содержит 30 заданий: 17 с выбором варианта ответа из четырёх предложенных, 10 с кратким ответом и 3 задания (15, 20, 23) с развёрнутым.

1 В каком океане средняя температура поверхностных вод больше?

- 1) Тихом
- 2) Атлантическом
- 3) Северном Ледовитом
- 4) Индийском

1 1 2 3 4

2 Какие из перечисленных государств имеют сухопутную границу с Россией?

- 1) Эстония и Грузия
- 2) Швеция и Армения
- 3) Болгария и Молдавия
- 4) Турция и Иран

2 1 2 3 4

3 На какой из перечисленных территорий горные ледники занимают большие площади?

- 1) Сихотэ-Алинь
- 2) Алтай
- 3) Кавказ
- 4) Урал

3 1 2 3 4

4 Для режима какой из перечисленных рек России характерно весеннее половодье летом, а осенью возможны ливневые паводки?

- 1) Зея
- 2) Амур
- 3) Волга
- 4) Анадырь

4 1 2 3 4

5 В каком из перечисленных регионов России наиболее развита лесная промышленность?

- 1) Урал
- 2) Северо-Запад России
- 3) Центральная Россия
- 4) Европейский Север

5 1 2 3 4

6 Группа зарубежных туристов своими глазами хочет увидеть хрупкую природу Заполярья России. Какой заповедник им необходимо для этого посетить?

- 1) Окский
- 2) Лазовский

6 1 2 3 4

- 3) Таймырский
- 4) Буреинский

- 7 Какой из перечисленных городов имеет наибольшую численность населения?
- 1) Новосибирск
  - 2) Хабаровск
  - 3) Петрозаводск
  - 4) Красноярск

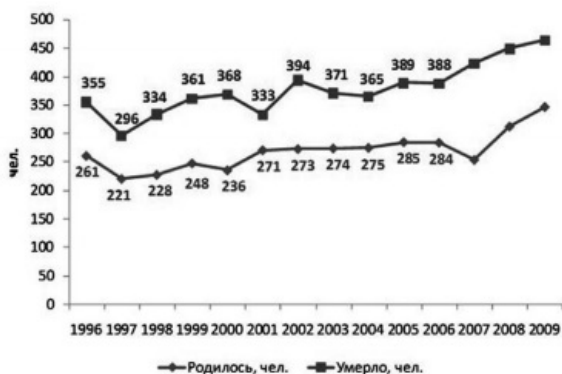
7 1 2 3 4

Задания 8–9 выполняются с использованием графика.

- 8 В каком из перечисленных годов показатель смертности был наименьшим?
- 1) 1996 г.
  - 2) 1997 г.
  - 3) 1998 г.
  - 4) 1999 г.

8 1 2 3 4

Показатели смертности и рождаемости в г. Троицке (чел.)

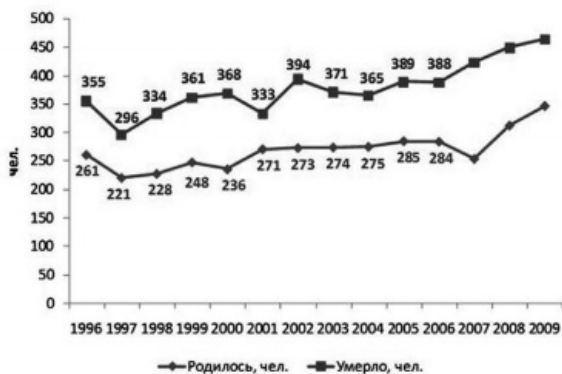


- 9 Определите величину естественного прироста населения в г. Троицке в 2006 г. Ответ запишите в виде числа.

9

Ответ: \_\_\_\_\_ тыс. человек

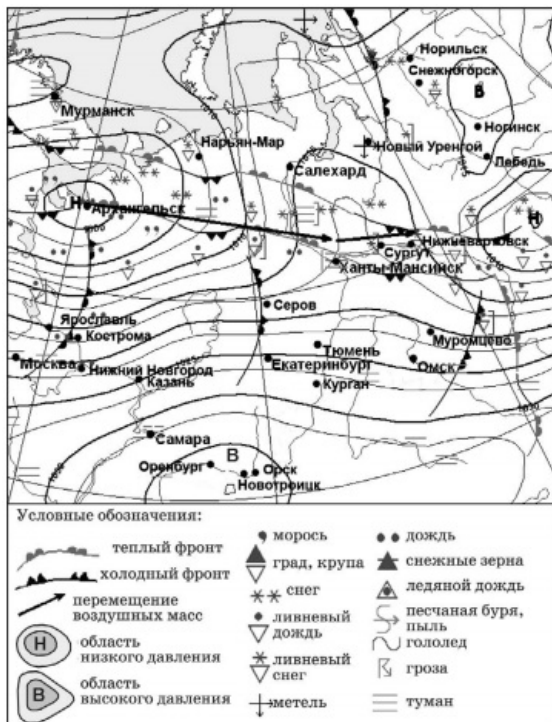
Показатели смертности и рождаемости в г. Троицке (чел.)



Задания 10–11 выполняются с использованием карты погоды.

10 Какой из показанных на карте городов находится в зоне действия антициклона?

- 1) Кострома
- 2) Серов
- 3) Оренбург
- 4) Екатеринбург



11 В каком из показанных на карте городов в ближайшее время можно ожидать изменения погоды и выпадения осадков?

- 1) Серов
- 2) Самара
- 3) Орск
- 4) Москва



определите долю продукции животноводства (в %) в общем объеме продукции сельского хозяйства. Полученный результат округлите до целого числа.

*Продукция сельского хозяйства России в 2010 г. (миллиардов рублей)*

Продукция сельского хозяйства	2587,8
в том числе:	
растениеводство	1191,5
животноводство	1396,3

Ответ: \_\_\_\_\_ %

17 Расположите перечисленные ниже города в порядке увеличения в них численности населения. Запишите в таблицу получившуюся последовательность цифр.

1) Краснодар

2) Липецк

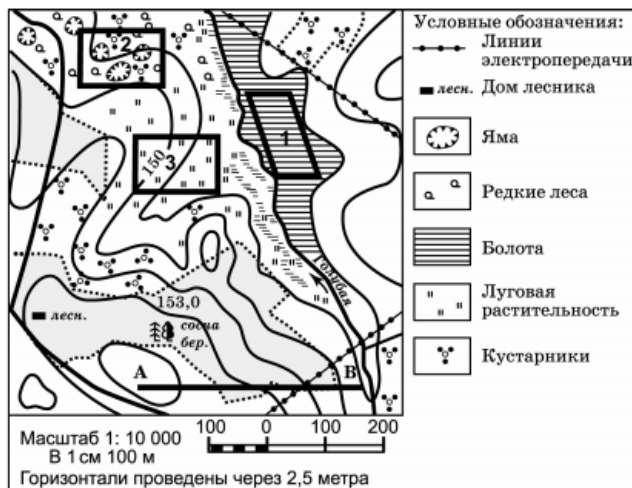
3) Уфа

Запишите получившуюся последовательность цифр.

Задания 18–21 выполняются с использованием приведённого ниже текста.

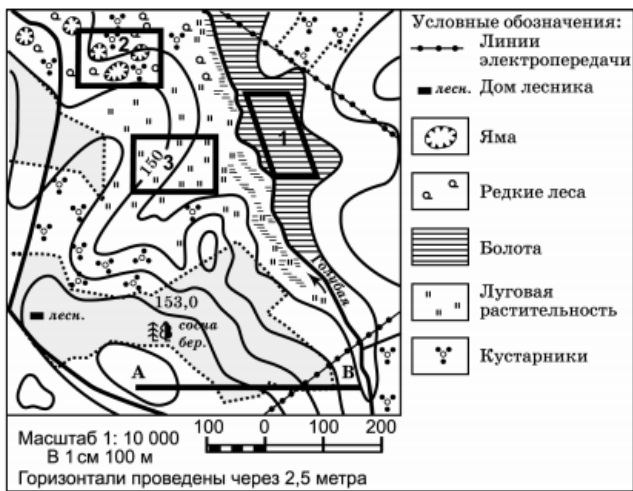
18 Определите по карте расстояние на местности по прямой от дома лесника до точки В. Ответ запишите цифрами.

Ответ: \_\_\_\_\_ м.

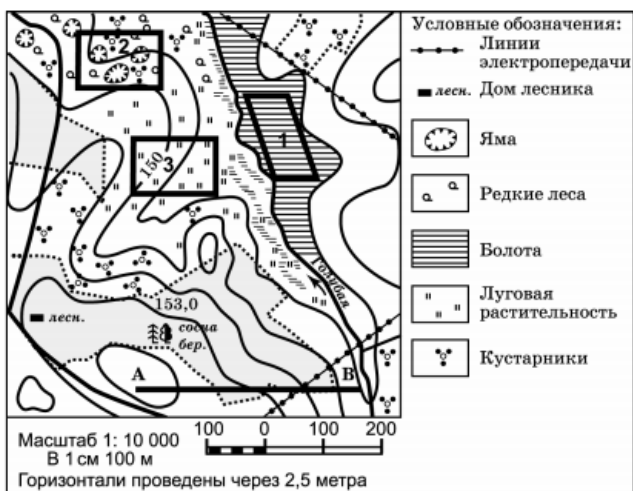


19 Определите по карте, в каком направлении от дома лесника находится вершина 176,7 м.

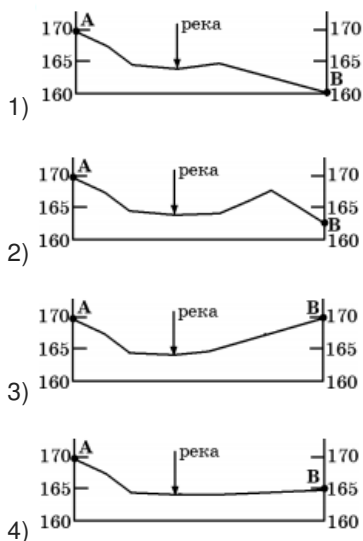
Ответ: \_\_\_\_\_

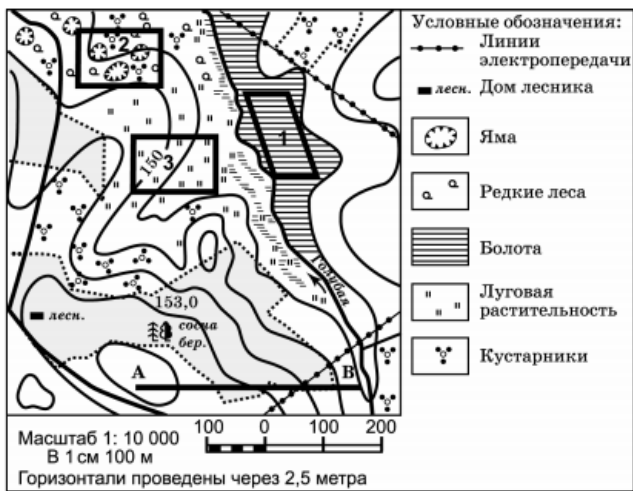


- 20 Было принято решение построить спортивный стадион. Оцените, на каком из участков, обозначенных на карте цифрами 1, 2 и 3, лучше организовать стадион. Для обоснования своего ответа приведите два довода. Обоснованный ответ запишите на отдельном листе, указав сначала номер задания.



- 21 На рисунках представлены варианты профиля рельефа местности, построенные на основе карты по линии А–В разными учащимися. Профили отличаются на участке от реки Голубая до точки В. Какой из профилей построен верно?





Задания 22, 23 выполняются с использованием приведённого ниже текста.

22 Картами какого региона нужно воспользоваться для того, чтобы изучить территорию, на которой работает ОАО «НПО Новочеркасский электровозостроительный завод»?

- 1) Европейского Севера
- 2) Волго-Вятского района
- 3) Дальнего Востока
- 4) Европейского Юга

ОАО «НПО Новочеркасский электровозостроительный завод» провело в Новочеркасске (Ростовская обл.) презентацию созданного на предприятии совместно с ВЭЛНИИ пассажирского электропоезда переменного тока нового поколения ЭНЗ. Электропоезд создан с использованием только российских комплектующих и элементной базы. Разработка была заказана и профинансирована МПС РФ. Поезд рассчитан на максимальную скорость 130 км/ч, общая пассажировместимость десятивагонного состава — 2314 пассажиров. Новочеркасский электропоезд предполагается использовать на Северо-Кавказской, Юго-Восточной и Горьковской дорогах.

23 Какие факторы способствовали размещению в Ростовской области завода по производству электропоездов?

Укажите два фактора. Обоснованный ответ запишите на отдельном листе, указав сначала номер задания.

ОАО «НПО Новочеркасский электровозостроительный завод» провело в Новочеркасске (Ростовская обл.) презентацию созданного на предприятии совместно с ВЭЛНИИ пассажирского электропоезда переменного тока нового поколения ЭНЗ. Электропоезд создан с использованием только российских комплектующих и элементной базы. Разработка была заказана и профинансирована МПС РФ. Поезд рассчитан на максимальную скорость 130 км/ч, общая пассажировместимость десятивагонного состава — 2314 пассажиров. Новочеркасский электропоезд предполагается использовать на Северо-Кавказской, Юго-Восточной и Горьковской дорогах.

24 Расположите регионы страны в той последовательности, в которой их жители встречают Новый год.

- 1) Республика Тыва (Тува)
- 2) Республика Бурятия
- 3) Республика Коми

22 1 2 3 4

24

25 Туристические фирмы разных регионов России разработали слоганы (рекламные лозунги) для привлечения туристов в свои регионы. Установите соответствие между слоганом и регионом.

СЛОГАН

А) Удивись искусству фонтанов и садово-парковых ландшафтов Петергофа

Б) Поднимись на горный хребет Сихотэ-Алинь

РЕГИОН

1) Псковская область

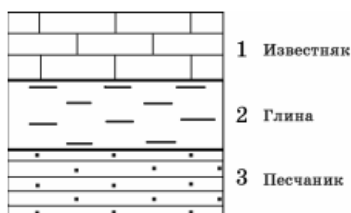
2) Ленинградская область

3) Приморский край

4) Ростовская область

Запишите выбранные цифры под соответствующими буквами.

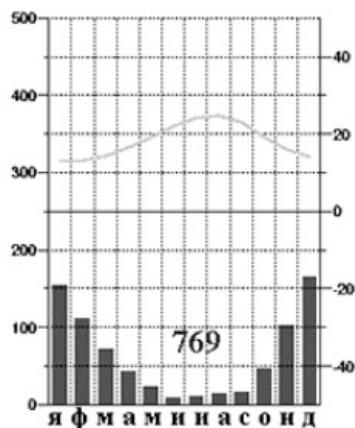
26 Изучая расположение горных пород в геологическом разрезе, сделанном на равнинной территории, члены школьного геологического кружка сделали следующую зарисовку.



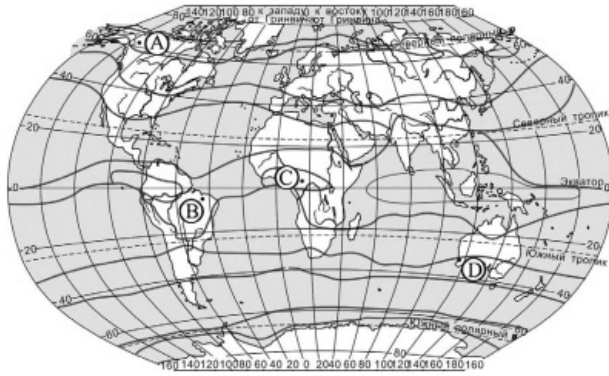
Расположите показанные на рисунке слои горных пород в порядке возрастания их возраста (от самого молодого до самого старого).

Запишите цифры в правильной последовательности.

27 Проанализируйте климатограмму и определите, какой буквой на карте обозначен пункт, характеристики климата которого отражены в климатограмме.







- 1) A
- 2) B
- 3) C
- 4) D

Задания 28, 29 выполняются с использованием приведённого ниже текста.

28 Какую из изученных на уроках географии закономерностей подтверждают собранные данные?

- 1) Высота Солнца над горизонтом изменяется в зависимости от географической широты местности.
- 2) Температура воздуха изменяется в течение дня.
- 3) Солнечное время пункта наблюдений изменяется в зависимости от географической широты местности.
- 4) Континентальность климата увеличивается в направлении с северо-запада на юго-восток.

Учащиеся нескольких школ, находящихся в разных городах России, стали участниками единого образовательного проекта. Результатами наблюдений, которые проводятся ими на географических площадках своих городов, они обмениваются. Вот эти результаты.

Пункт наблюдения	Долгота пункта наблюдения	Высота Солнца над горизонтом 21 марта в полдень по солнечному времени, °	Среднегодовая температура воздуха, °С	Среднегодовое количество атмосферных осадков, мм
Санкт-Петербург	30° в.д.	30	5	633
Рязань	39° в.д.	36	5	553
Астрахань	48° в.д.	44	10	213
Тамбов	41° в.д.	38	6	551

29 В каком из городов 23 сентября (день осеннего равноденствия) солнце раньше всего по московскому времени поднимается над горизонтом?

- 1) Санкт-Петербург
- 2) Рязань
- 3) Астрахань
- 4) Тамбов

28 1 2 3 4

29 1 2 3 4

Учащиеся нескольких школ, находящихся в разных городах России, стали участниками единого образовательного проекта. Результатами наблюдений, которые проводятся ими на географических площадках своих городов, они обмениваются. Вот эти результаты.

Пункт наблюдения	Долгота пункта наблюдения	Высота Солнца над горизонтом 21 марта в полдень по солнечному времени, °	Среднегодовая температура воздуха, °С	Среднегодовое количество атмосферных осадков, мм
Санкт-Петербург	30° в.д.	30	5	633
Рязань	39° в.д.	36	5	553
Астрахань	48° в.д.	44	10	213
Тамбов	41° в.д.	38	6	551

30 Определите страну по ее краткому описанию

Эта страна омывается Средиземным морем. Значительные ее площади заняты пустыней. Название страны совпадает с названием ее столицы. Столица же — крупнейший по численности населения город страны. Сельское хозяйство в стране — основная отрасль экономики. Главные его направления: возделывание зерновых культур, овощеводство, плодоводство (тропических культур), скотоводство. Многочисленные достопримечательности, среди которых несколько известных археологических комплексов, постоянно привлекают внимание туристов. На первом месте по праву находится знаменитый Карфаген.

Ответ: \_\_\_\_\_

30

## Ответы

1	1
2	1
3	3
4	3
5	4
6	3
7	1
8	2
9	104
10	3
11	1
12	2
13	3
14	Мехико
16	54
17	213
18	490
19	северо-восток
21	3
22	4
24	213
25	23
26	123
27	4
28	4
29	3
30	Тунис

Обо всех неточностях пишите на почту (с указанием номера варианта и задания):  
dasha@neznaika.pro

Источник: [http://neznaika.pro/test/geo\\_oge/659-variant-6.html](http://neznaika.pro/test/geo_oge/659-variant-6.html)