

Вариант 5

Работа содержит 30 заданий: 17 с выбором варианта ответа из четырёх предложенных, 10 с кратким ответом и 3 задания (15, 20, 23) с развёрнутым.

1 Какой из перечисленных островов является самым крупным по площади в мире?

- 1) Великобритания
- 2) Калимантан
- 3) Мадагаскар
- 4) Гренландия

1 1 2 3 4

2 На границе с каким из перечисленных государств расположена крайняя западная точка России?

- 1) Норвегия
- 2) Молдова
- 3) Эстония
- 4) Польша

2 1 2 3 4

3 В каком из перечисленных городов выпадает наибольшее количество атмосферных осадков?

- 1) Якутск
- 2) Москва
- 3) Омск
- 4) Астрахань

3 1 2 3 4

4 Морозы губительно воздействуют на посевы. В каком из перечисленных регионов России морозы — наиболее частые явления?

- 1) Ставропольский край
- 2) Волгоградская область
- 3) Магаданская область
- 4) Саратовская область

4 1 2 3 4

5 В каком из перечисленных регионов России расположено крупнейшее медно-никелевое производство?

- 1) Центральное Черноземье
- 2) Восточная Сибирь
- 3) Дальний Восток
- 4) Европейский Юг

5 1 2 3 4

6 Группа зарубежных туристов своими глазами хочет увидеть хрупкую природу Крайнего Севера России. Какой заповедник им необходимо для этого посетить?

- 1) «Воронежский»

6 1 2 3 4

- 2) «Остров Врангеля»
- 3) «Галичья гора»
- 4) «Черные Земли»

7 1 2 3 4

7 Какой из перечисленных городов имеет наибольшую численность населения?

- 1) Мурманск
- 2) Сыктывкар
- 3) Самара
- 4) Ставрополь

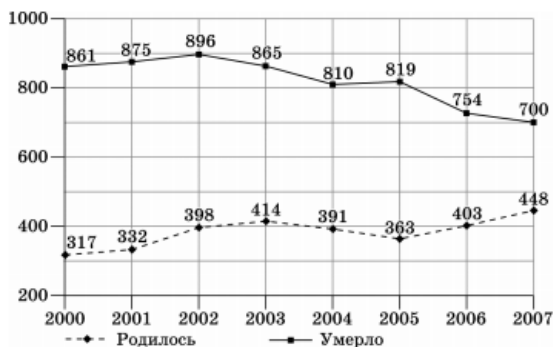
Задания 8–9 выполняются с использованием графика.

8 1 2 3 4

8 В каком из перечисленных годов показатель рождаемости был наименьшим?

- 1) 2000 г.
- 2) 2002 г.
- 3) 2004 г.
- 4) 2006 г.

Показатели смертности и рождаемости в Катав-Ивановском районе (чел.)

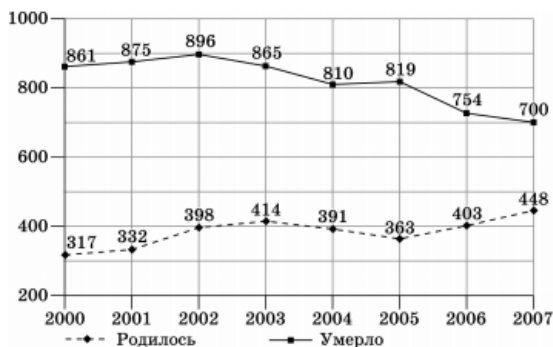


9

9 Определите показатель естественного прироста населения в 2000 г. Ответ запишите в виде числа.

Ответ: _____

Показатели смертности и рождаемости в Катав-Ивановском районе (чел.)



Задания 10–11 выполняются с использованием карты погоды.

10 Какой из показанных на карте городов находится в зоне действия антициклона?

- 1) Париж
- 2) Архангельск
- 3) Осло
- 4) Санкт-Петербург



11 Карта погоды дана по состоянию на 3 марта. В каком из показанных на карте городов на следующий день можно ожидать существенного потепления?

- 1) Самара
- 2) Санкт-Петербург
- 3) Киров
- 4) Астрахань



12 С увеличением концентрации какого газа в атмосфере связан парниковый эффект?

- 1) углекислого
- 2) сернистого
- 3) угарного
- 4) пропана

12 1 2 3 4

13 В каком из высказываний содержится информация об урбанизации в России?

- 1) По данным Переписи населения 2002 года численность населения России с 1989 года по 2002 год сократилась на 1,8 млн.
- 2) К концу 1990-х годов темпы естественной убыли населения нашей страны превысили 900 тыс. человек.
- 3) С 2004 года в России начался устойчивый рост миграционного притока в Россию, достигшего к 2009 году 247 тыс. человек.
- 4) К концу 1930-х годов в городских поселениях проживала треть россиян, а с конца 1980-х по настоящее время — почти три четверти.

13 1 2 3 4

14 Определите, какой город имеет географические координаты 19° с.ш. и 73° в.д.?

Ответ: _____

14

15 13 июня 2011 года произошло извержение вулкана Нарбо, расположенного в южной части Красного моря вблизи границы Эритреи и Эфиопии в Афарской котловине. Извержению предшествовала серия землетрясений с магнитудой до 5,6. В результате извержения произошел выброс пепла на высоту до 13,5 км.

Почему в Афарской котловине происходят извержения вулканов? Обоснованный ответ запишите на отдельном листе, указав сначала номер задания

16 Используя данные таблицы «Продукция сельского хозяйства России в 2011 г.», определите долю продукции животноводства (в %) в общем объеме продукции сельского хозяйства. Полученный результат округлите до целого числа

16

Продукция сельского хозяйства	3261,7
в том числе:	
растениеводство	1703,5
животноводство	1558,2

Ответ: _____ %

17 Расположите перечисленные ниже города в порядке увеличения в них численности населения. Запишите в таблицу получившуюся последовательность цифр.

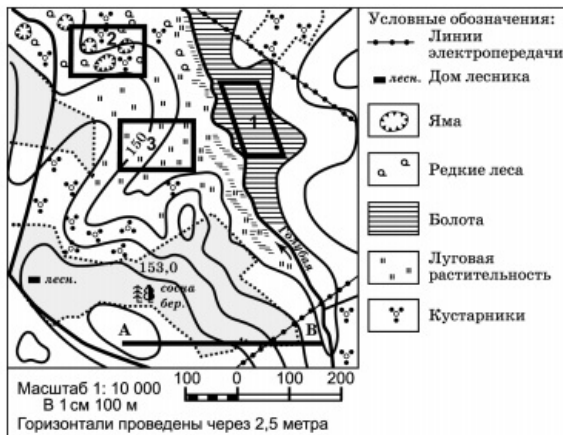
- 1) Самара
- 2) Краснодар
- 3) Липецк

Запишите получившуюся последовательность цифр.

Задания 18–21 выполняются с использованием приведённого ниже текста.

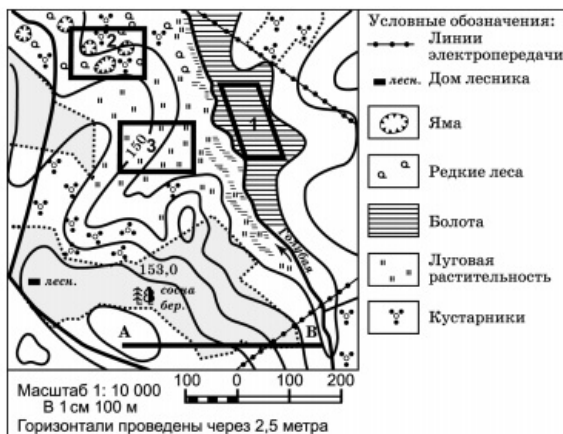
18 Определите по карте расстояние на местности по прямой от дома лесника до точки А. Ответ запишите цифрами.

Ответ: _____ м.

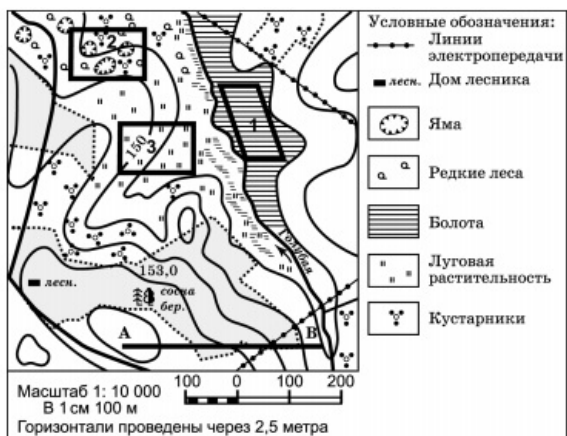


19 Определите по карте, в каком направлении от дома лесника находится вершина 165,7 м.

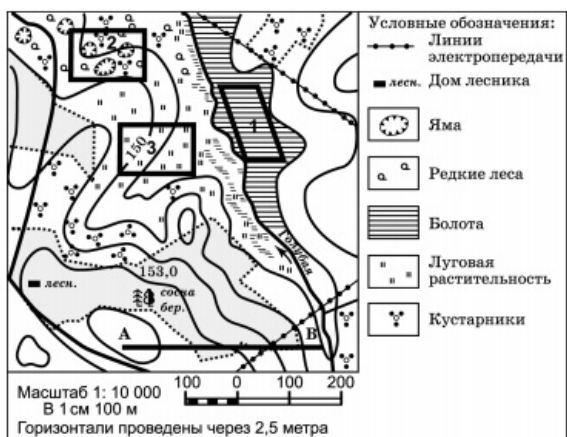
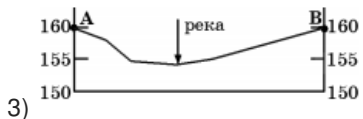
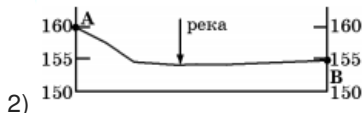
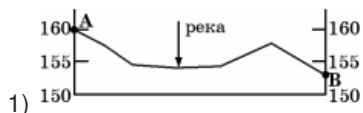
Ответ: _____



- 20 Ваш брат зимой хочет покататься на санках с холма. Он обращается к вам за советом, где ему лучше покататься. Оцените, какой из участков, обозначенных на карте цифрами 1, 2 и 3, наиболее подходит для катания на санках. Для обоснования своего ответа приведите два довода. Обоснованный ответ запишите на отдельном листе, указав сначала номер задания.



- 21 На рисунках представлены варианты профиля рельефа местности, построенные на основе карты по линии А–В разными учащимися. Какой из профилей построен верно?



Задания 22, 23 выполняются с использованием приведённого ниже текста.

- 22 Картами какого региона нужно воспользоваться для того, чтобы изучить территорию, на которой работает завод железнодорожного машиностроения в Верхней Пышме?

- 1) Европейского Севера
- 2) Центральной России
- 3) Урала
- 4) Поволжья

В марте 2011 года в России создается совместное предприятие по производству поездов SiemensDesiroRus. Они будут называться «Ласточка». Производство составов будет осуществляться на заводе железнодорожного машиностроения в Верхней Пышме (Свердловская область). Запуск производства запланирован на начало 2012 года. Согласно плану завод будет производить для РЖД порядка 200 вагонов ежегодно. К 2017 году 80% производства этих поездов должно быть локализовано в России. Поезда «Ласточка» будут работать на Олимпиаде в Сочи.

- 23 Какие факторы, кроме выгодного ЭГП, способствовали размещению производства высокоскоростных электропоездов в Свердловской области?

Укажите два фактора. Обоснованный ответ запишите на отдельном листе, указав сначала номер задания.

В марте 2011 года в России создается совместное предприятие по производству поездов SiemensDesiroRus. Они будут называться «Ласточка». Производство составов будет осуществляться на заводе железнодорожного машиностроения в Верхней Пышме (Свердловская область). Запуск производства запланирован на начало 2012 года. Согласно плану завод будет производить для РЖД порядка 200 вагонов ежегодно. К 2017 году 80% производства этих поездов должно быть локализовано в России. Поезда «Ласточка» будут работать на Олимпиаде в Сочи.

- 24 Расположите регионы страны в той последовательности, в которой их жители встречают Новый год

- 1) Республика Тыва (Тува)
- 2) Хабаровский край
- 3) Чувашская республика

24

- 25 Туристические фирмы разных регионов России разработали слоганы (рекламные лозунги) для привлечения туристов в свои регионы. Установите соответствие между слоганом и регионом.

СЛОГАН

- А) Посети жемчужину Золотого кольца России — город Углич
- Б) Поброди по территории дворцово-паркового комплекса, который являлся летним дворцом российского императора Павла I

РЕГИОН

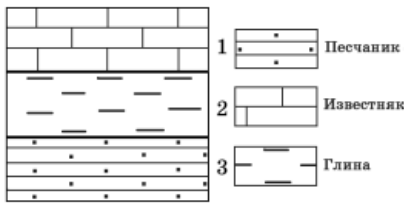
- 1) Ленинградская область
- 2) Московская область
- 3) Ярославская область
- 4) Свердловская область

Запишите выбранные цифры под соответствующими буквами.

25

- 26 Изучая расположение горных пород в геологическом разрезе, сделанном на равнинной территории, участники экспедиции сделали следующую зарисовку.

26

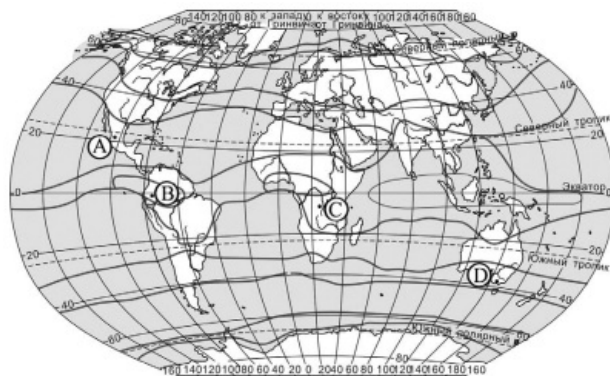
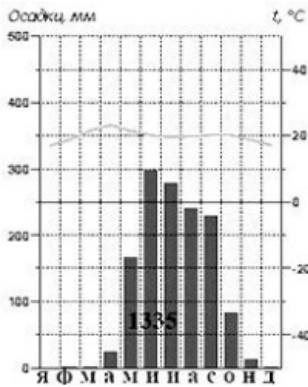


Расположите показанные на рисунке слои горных пород в порядке **убывания** их возраста (от самого старого до самого молодого).

Запишите цифры в правильной последовательности.

27 1 2 3 4

27 Проанализируйте климатограмму и определите, какой буквой на карте обозначен пункт, характеристики климата которого отражены в климатограмме.



- 1) A
- 2) B
- 3) C
- 4) D

Задания 28, 29 выполняются с использованием приведённого ниже текста.

28 1 2 3 4

28 Какую из изученных на уроках географии закономерностей подтверждают собранные данные?

- 1) Высота Солнца над горизонтом изменяется в зависимости от географической широты местности.
- 2) Температура воздуха изменяется в течение года.
- 3) Континентальность климата увеличивается в направлении с северо-запада на юго-восток.
- 4) Солнечное время пункта наблюдений изменяется в зависимости от географической широты местности.

Учащиеся нескольких школ, находящихся в разных городах России, стали участниками единого образовательного проекта. Результатами наблюдений, которые проводятся ими на географических площадках своих городов, они обмениваются. Вот эти результаты.

Пункт наблюдения	Долгота пункта наблюдения	Высота Солнца над горизонтом 21 марта в полдень по солнечному времени, °	Среднегодовая температура воздуха, °С	Среднегодовое количество атмосферных осадков, мм
Рязань	39° в.д.	36	5	553
Астрахань	48° в.д.	44	10	213
Тамбов	41° в.д.	38	6	551
Петрозаводск	34° в.д.	29	3	585

29 В каком из городов 23 сентября (день осеннего равноденствия) солнце раньше всего по московскому времени поднимается над горизонтом?

29 1 2 3 4

- 1) Рязань
- 2) Астрахань
- 3) Тамбов
- 4) Петрозаводск

Учащиеся нескольких школ, находящихся в разных городах России, стали участниками единого образовательного проекта. Результатами наблюдений, которые проводятся ими на географических площадках своих городов, они обмениваются. Вот эти результаты.

Пункт наблюдения	Долгота пункта наблюдения	Высота Солнца над горизонтом 21 марта в полдень по солнечному времени, °	Среднегодовая температура воздуха, °С	Среднегодовое количество атмосферных осадков, мм
Рязань	39° в.д.	36	5	553
Астрахань	48° в.д.	44	10	213
Тамбов	41° в.д.	38	6	551
Петрозаводск	34° в.д.	29	3	585

30 Определите страну по ее краткому описанию.

30

Государство расположено на юго-западе Азии, в Восточном Средиземноморье. Как независимое государство было основано 14 мая 1948 года на части подмандатной территории Палестины. За свою недолгую историю государство участвовало в шести войнах с соседними государствами. В настоящее время входит в десятку самых богатых стран мира по размерам душевого дохода. Занимает первое место в мире по эксплуатации в домах солнечных бойлеров.

Ответ: _____

Ответы

1	4
2	4
3	2
4	3
5	2
6	2
7	3
8	1
9	-544
10	1
11	2
12	1
13	4
14	Мумбаи
16	48
17	321
18	310
19	Северо-восток
21	3
22	3
24	213
25	31
26	132
27	3
28	3
29	2
30	Израиль

Обо всех неточностях пишите на почту (с указанием номера варианта и задания):
dasha@neznaika.pro

Источник: http://neznaika.pro/test/geo_oge/658-variant-5.html