

Вариант 4

Работа содержит 30 заданий: 17 с выбором варианта ответа из четырёх предложенных, 10 с кратким ответом и 3 задания (15, 20, 23) с развёрнутым.

1 Какой из перечисленных проливов длиннее?

- 1) Берингов
- 2) Магелланов
- 3) Босфор
- 4) Девисов

1 1 2 3 4

2 На границе с каким из перечисленных государств расположена крайняя южная точка России?

- 1) Монголия
- 2) Азербайджан
- 3) Казахстан
- 4) Армения

2 1 2 3 4

3 В каком из перечисленных регионов России лето наиболее теплое?

- 1) Архангельская область
- 2) Краснодарский край
- 3) Владимирская область
- 4) Чукотский АО

3 1 2 3 4

4 Половодье — это наибольшая в году водность реки, когда проходит значительная часть годового стока (до 80%), затопляется пойма, а иногда и низкие террасы.

Половодья часто наносят огромный урон сельскому хозяйству и населению, проживающему по берегам рек. На какой из перечисленных рек половодья наблюдаются летом?

- 1) Кама
- 2) Волга
- 3) Дон
- 4) Анадырь

4 1 2 3 4

5 Какой из перечисленных регионов России является центром молочного животноводства?

- 1) Тамбовская область
- 2) Оренбургская область
- 3) Вологодская область
- 4) Астраханская область

5 1 2 3 4

6 Группа зарубежных туристов своими глазами хочет увидеть места обитания женьшеня и амурского бархата на территории России. Какой заповедник им необходимо для этого

6 1 2 3 4

посетить?

- 1) Кандалакшский
- 2) Лазовский
- 3) Хоперский
- 4) Лапландский

7 Для какого из перечисленных народов России характерно переносное жилище, покрытое оленьими шкурами, — яранга?

- 1) карелы
- 2) коряки
- 3) башкиры
- 4) чеченцы

7 1 2 3 4

Задания 8–9 выполняются с использованием графика.

8 В каком из перечисленных годов в Россию на постоянное жительство въехало большее количество людей?

- 1) 2000 г.
- 2) 2001 г.
- 3) 2002 г.
- 4) 2003 г.

8 1 2 3 4



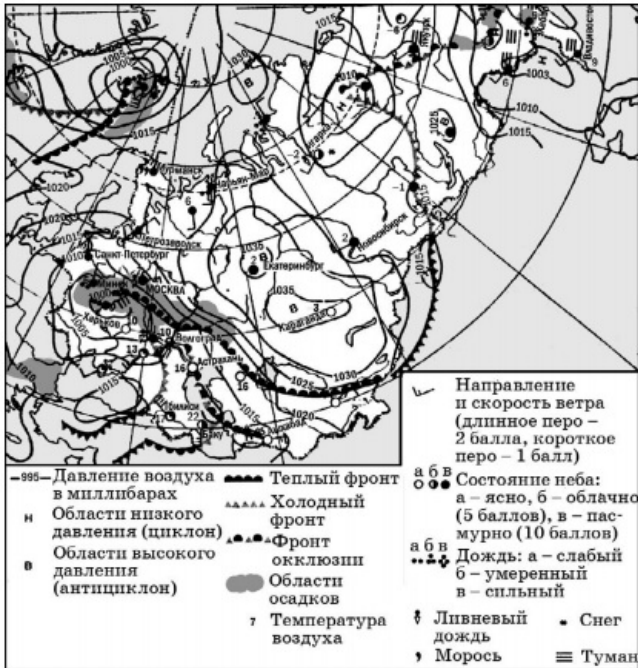
9 Определите миграционный прирост населения России в 2000 году (тыс. чел.). Ответ запишите в виде числа.

Ответ: _____ тыс. человек.

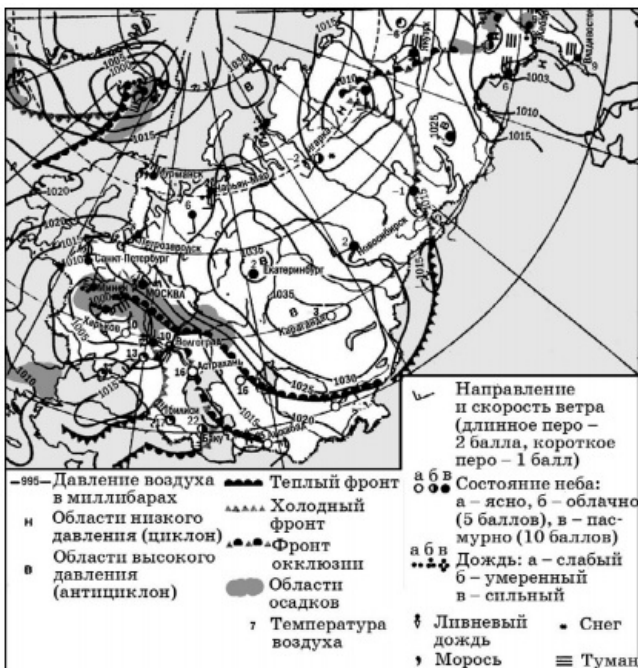
9



- 10 Какой из показанных на карте городов находится в зоне действия антициклона?
- 1) Екатеринбург
 - 2) Астрахань
 - 3) Нарьян-Мар
 - 4) Тбилиси



- 11 В каком из показанных на карте городов в ближайшее время можно ожидать ухудшения погоды?
- 1) Екатеринбург
 - 2) Тбилиси
 - 3) Караганда
 - 4) Новосибирск



12 Главной причиной сокращения площади лесов в мире является

12 1 2 3 4

- 1) глобальное потепление климата
- 2) хозяйственная деятельность человека
- 3) снижение почвенного плодородия
- 4) уничтожение озонового слоя атмосферы

13 В каком из следующих утверждений содержится информация о миграциях населения России?

13 1 2 3 4

- 1) В Сибири, площадь которой составляет почти 3/4 территории России, проживает менее четверти населения.
- 2) В начале 1990-х годов начался сильный отток населения с Крайнего Севера
- 3) В 2006 году, согласно данным Росстата, родилось на 22,2 тыс. людей больше, чем в 2005 году.
- 4) Кроме русского народа, на территории России проживает более 180 различных малочисленных народов.

14 Определите, какой город имеет географические координаты 59° с.ш. и 10° в.д.?

14

Ответ: _____

15 22 мая 1960 г. в Тихом океане возникло цунами. В Чили, Японии, на Гавайских и Филиппинских островах от этих волн погибли около 2,3 тыс., ранены — более 4 тыс., остались без крова — порядка 2 млн человек. Сумма причиненного материального ущерба составила более 675 млн долларов. Долгое время это цунами считалось самым мощным и разрушительным из зафиксированных.

Почему в Тихом океане часто возникают волны огромной разрушительной силы?
Обоснованный ответ запишите на отдельном листе, указав сначала номер задания.

16 Используя данные таблицы «Продукция сельского хозяйства России в 2012 г.», определите долю продукции животноводства (в %) в общем объеме продукции сельского хозяйства. Полученный результат округлите до целого числа.

16

Продукция сельского хозяйства России в 2012 г. (миллиардов рублей)

Продукция сельского хозяйства	3261,7
в том числе:	
растениеводство	1703,5
животноводство	1558,2

Ответ: _____ %

17 Расположите перечисленные ниже города в порядке увеличения в них численности населения. Запишите в таблицу получившуюся последовательность цифр.

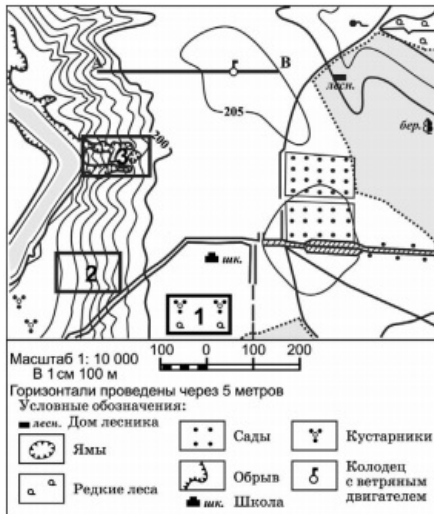
17

- 1) Казань
- 2) Воронеж
- 3) Брянск

Запишите получившуюся последовательность цифр.

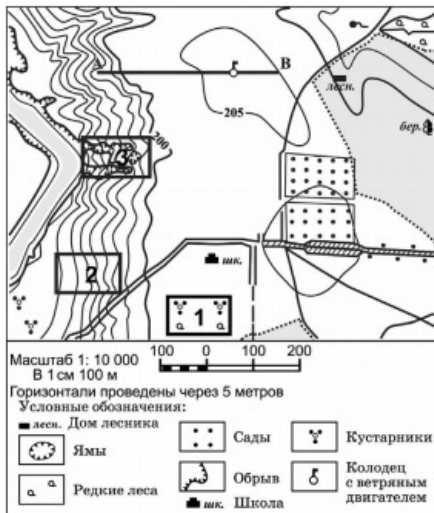
18 Определите по карте расстояние на местности по прямой от школы до дома лесника. Ответ запишите цифрами.

Ответ: ____ м.

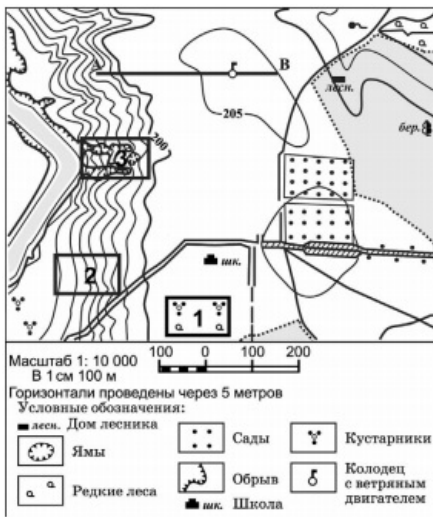


19 Определите по карте, в каком направлении от дома лесника находится школа.

Ответ: ____

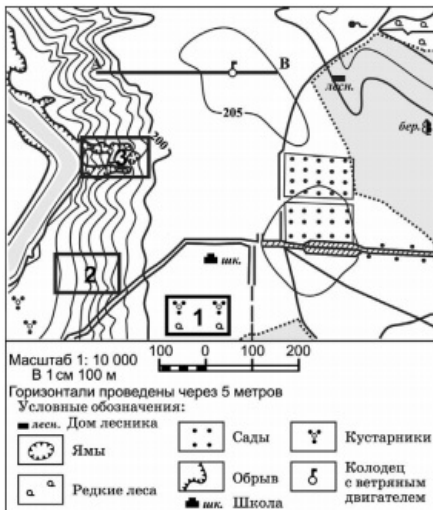
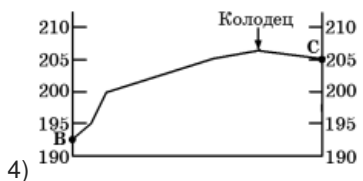
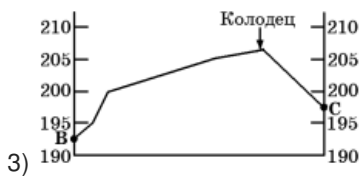
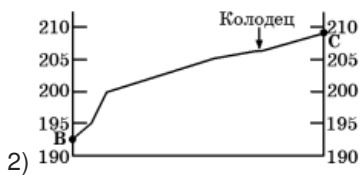
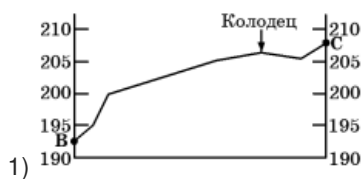


20 В школе решили организовать горнолыжную секцию. Оцените, какой из участков, обозначенных на карте цифрами 1, 2 и 3, наиболее подходит для катания на горных лыжах. Для обоснования своего ответа приведите два довода. Обоснованный ответ запишите на отдельном листе, указав сначала номер задания.



21 На рисунках представлены варианты профиля рельефа местности, построенные на основе карты по линии В–С разными учащимися. Какой из профилей построен верно?

21 1 2 3 4



22 Картами какого региона нужно воспользоваться для того, чтобы изучить территорию, на которой будет реализован названный в тексте проект?

- 1) Камчатского края
- 2) Сахалинской области
- 3) Магаданской области
- 4) Хабаровского края

Более 20 лет назад начал свою работу сортопрокатный цех Дальневосточного передельного металлургического завода, расположенного в г. Комсомольск-на-Амуре. Сегодня сортопрокатный цех по праву можно назвать одним из самых стабильно работающих и успешных подразделений предприятия. Здесь постоянно внедряются и совершенствуются самые последние технические и технологические разработки. С успехом выполняются поставленные производственные задачи и перевыполняются планы. Ведутся работы по внедрению технических и технологических разработок. В июне 2006 года в сортопрокатном цехе ОАО «Амурметалл» успешно освоен «слиттинг-процесс», позволивший поднять производительность труда на 25%, существенно снизив при этом затраты по электроэнергии и условному топливу на тонну проката.

23 Какие особенности хозяйства города Комсомольск-на-Амуре обусловили его выбор для открытия цеха передельной металлургии? Укажите две особенности хозяйства. Обоснованный ответ запишите на отдельном листе, указав сначала номер задания.

Более 20 лет назад начал свою работу сортопрокатный цех Дальневосточного передельного металлургического завода, расположенного в г. Комсомольск-на-Амуре. Сегодня сортопрокатный цех по праву можно назвать одним из самых стабильно работающих и успешных подразделений предприятия. Здесь постоянно внедряются и совершенствуются самые последние технические и технологические разработки. С успехом выполняются поставленные производственные задачи и перевыполняются планы. Ведутся работы по внедрению технических и технологических разработок. В июне 2006 года в сортопрокатном цехе ОАО «Амурметалл» успешно освоен «слиттинг-процесс», позволивший поднять производительность труда на 25%, существенно снизив при этом затраты по электроэнергии и условному топливу на тонну проката.

24 Расположите регионы страны в той последовательности, в которой их жители встречают Новый год.

- 1) Иркутская область
- 2) Оренбургская область
- 3) Чукотский АО

25 Туристические фирмы разных регионов России разработали слоганы (рекламные лозунги) для привлечения туристов в свои регионы. Установите соответствие между слоганом и регионом.

СЛОГАН

- А) Побродил по самым большим по площади в Европе не тронутым человеком лесам
- Б) Посети второй по величине равнинный водопад Европы — Кивач

РЕГИОН

- 1) Республика Карелия
- 2) Республика Марий Эл
- 3) Республика Коми

4) Республика Бурятия

Запишите выбранные цифры под соответствующими буквами.

26

26 В коллекцию школьного музея попали образцы слоев горных пород земной коры. Для создания одного из экспонатов музея потребовалось разместить эти образцы в определенной последовательности.

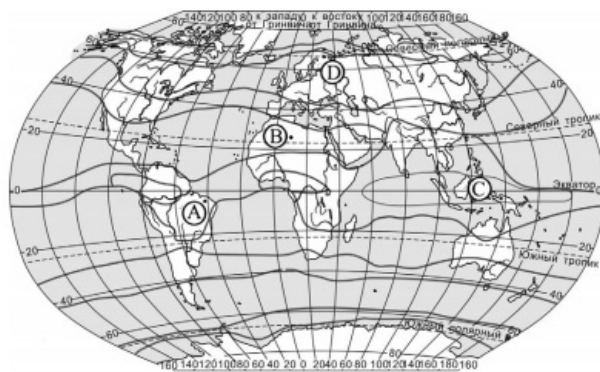
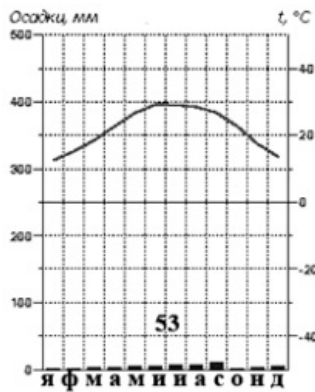
- 1) гранитный слой
- 2) осадочный слой
- 3) базальтовый слой

Расположите слои горных пород континентальной земной коры от нижнего к верхнему.

Запишите цифры в правильной последовательности.

27

27 Проанализируйте климатограмму и определите, какой буквой на карте обозначен пункт, характеристики климата которого отражены в климатограмме.



- 1) A
- 2) B
- 3) C
- 4) D

Задания 28, 29 выполняются с использованием приведенного ниже текста.

28

28 Какую из изученных на уроках географии закономерностей подтверждают собранные данные?

- 1) Высота Солнца изменяется в зависимости от географической широты местности.
- 2) Температура воздуха изменяется в течение года.
- 3) Континентальность климата увеличивается в направлении с северо-запада на юго-

ВОСТОК.

4) Высота Солнца над горизонтом изменяется в течение дня в зависимости от времени наблюдения.

Учащиеся нескольких школ, находящихся в разных городах России, стали участниками единого образовательного проекта. Результатами наблюдений, которые проводятся ими на географических площадках своих городов, они обмениваются. 21 марта в полдень по солнечному времени каждого из городов (во всех городах действует московское время) они определили высоту Солнца над горизонтом, зафиксировали температуру и влажность воздуха. Результаты этих наблюдений приведены в таблице.

Пункт наблюдения	Координаты пункта наблюдения	Высота Солнца над горизонтом, °	Температура воздуха, °С	Относительная влажность воздуха, %
Мурманск	69° с.ш. 33° в.д.	21	-5	80
Санкт-Петербург	60° с.ш. 30° в.д.	30	+4	89
Липецк	53° с.ш. 40° в.д.	37	+6	74
Тверь	57° с.ш. 36° в.д.	33	0	81

29 В каком из городов 23 сентября (день осеннего равноденствия) солнце раньше всего по московскому времени поднимается над горизонтом?

- 1) Мурманск
- 2) Санкт-Петербург
- 3) Липецк
- 4) Тверь

Учащиеся нескольких школ, находящихся в разных городах России, стали участниками единого образовательного проекта. Результатами наблюдений, которые проводятся ими на географических площадках своих городов, они обмениваются. 21 марта в полдень по солнечному времени каждого из городов (во всех городах действует московское время) они определили высоту Солнца над горизонтом, зафиксировали температуру и влажность воздуха. Результаты этих наблюдений приведены в таблице.

Пункт наблюдения	Координаты пункта наблюдения	Высота Солнца над горизонтом, °	Температура воздуха, °С	Относительная влажность воздуха, %
Мурманск	69° с.ш. 33° в.д.	21	-5	80
Санкт-Петербург	60° с.ш. 30° в.д.	30	+4	89
Липецк	53° с.ш. 40° в.д.	37	+6	74
Тверь	57° с.ш. 36° в.д.	33	0	81

30 Определите страну по её краткому описанию.

Это государство занимает большую часть полуострова, на котором расположено. По форме правления — монархия (королевство). Столица этого государства расположена не на побережье. В прошлом — крупнейшая морская держава. В настоящее время ей принадлежит самый большой в Европе рыболовный флот.

Ответ: _____

29 1 2 3 4

30

Ответы

1	4
2	2
3	2
4	4
5	3
6	2
7	2
8	1
9	73
10	1
11	2
12	2
13	2
14	Осло
16	48
17	321
18	450
19	Юго-запад
21	4
22	4
24	312
25	31
26	321
27	2
28	1
29	3
30	Испания

Обо всех неточностях пишите на почту (с указанием номера варианта и задания):
dasha@neznaika.pro

Источник: http://neznaika.pro/test/geo_oge/657-variant-4.html